

Vendredi 5 juin 2020

1) Prépare ton cahier et écris la phrase du jour.

Tout à coup, le vent pousse les nuages devant le soleil.

a- Souligne le verbe, écris son infinitif puis entoure le sujet en bleu.

b- Ecris cette phrase en mettant le sujet au singulier.

c- Entoure les 3 noms communs en vert.

d- Remplace le sujet par le pronom personnel "tu"

2) Lis, épèle puis recopie les mots pour la dictée.

	mot invariable		
dessiner	beaucoup	le soleil	les nuages

3) Grammaire : Voici le verbe avoir.

Le verbe avoir au présent	
j'ai	nous avons
tu as	vous avez
il a	ils ont
elle a	elles ont

Complète avec le pronom personnel qui convient.

Colorie le pronom personnel et la forme du verbe avoir conjuguée au présent qui correspond.

ont	a	ai	avons	avez	as	a
j'	ils	elle	vous	il	nous	tu

4) Lexique : Pour chaque liste, range les mots dans l'ordre alphabétique.

Liste 1	montagne - gorille - bermudas - classeur
Liste 2	violette - marguerite - fleur - iris - rose
Liste 3	poire - zèbre - tulipe - tarte - bras
Liste 4	dormir - douter - classer - chanter - loup
Liste 5	montre - monde - marcher - marmite - moule

5) Lecture : Lis ces phrases puis réponds aux questions sur ton cahier par une phrase.

- Maman installe bébé dans son petit siège à l'arrière. Elle s'assied à l'avant et attache sa ceinture de sécurité. Elle démarre. Où est Maman?
- Ce matin, tout le monde cherche notre chat qui a disparu. Soudain, ma sœur, debout devant la porte de la maison, entend un miaulement semblant venir du ciel. Papa a compris, il a déjà posé l'échelle contre le mur de la maison pour grimper tout là-haut sur les tuiles. Où le chat s'est-il réfugié ?

6) Dictée

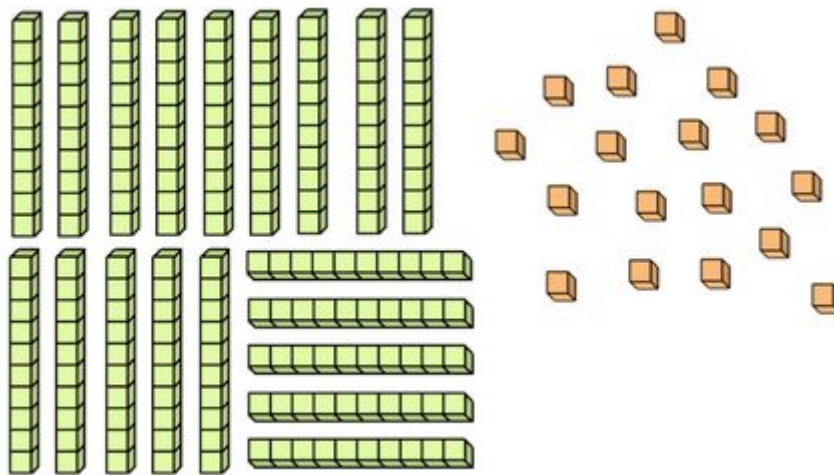
Ils dessinent le soleil avec beaucoup de nuages.

Récréation : Une petite pause s'Impose.




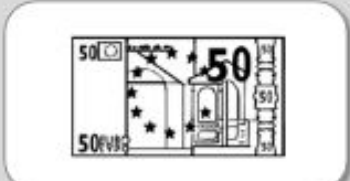


7) Calcul mental

$50 - 5 =$	$130 - 40 =$	$40 - 40 =$	$100 - 90 =$	$90 - 20 =$
$86 - 5 =$	$27 - 17 =$	$43 - 40 =$	$60 - 58 =$	$29 - 15 =$

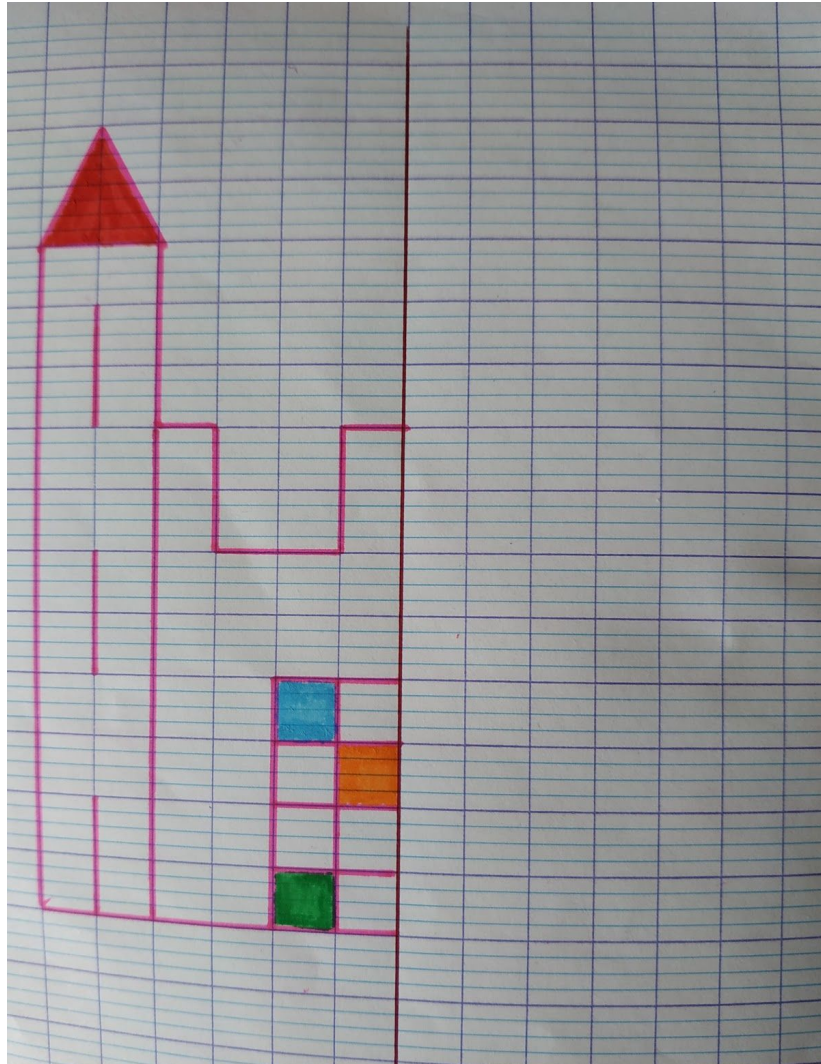
8) Nombres : Écris le nombre représenté en chiffres, en lettres puis en faisant une addition.



9) Grandeurs et mesures : Observe et écris la somme que la marchande rend à Mila. (tu peux dessiner pour t'aider)

L'objet coute :	Mila donne :	La marchande lui rend :
 7 € 50 c		
 27 € 60 c		
 15 € 40 c		

10) Espace et géométrie : Reproduis cette figure et complète-la par symétrie.



DIVERS

11) Silence on lit :

<https://www.youtube.com/watch?v=Zj8FsRGHfI4>


12) QLM : Les plantes

En attendant de voir si les plants de tomates réussissent à pousser sans eau, sans lumière, sans terre ou sans chaleur, observons des fruits et des légumes. Voici un autre arbre, c'est un abricotier.



Quel est le fruit qui pousse sur un abricotier ? _____

Si tu as un abricot, ouvre-le en deux, puis garde la partie qui contient le noyau. Dessine ce que tu vois puis place les mots demandés.



13) Débat philo : Regarde l'image suivante et donne-moi ton avis.



14) Sport : Dépense-toi!

https://www.youtube.com/watch?v=Yt0wuk_bOXI

15) Continue ta progression sur Lalilo et Matheros.