



Vendredi 29 mai



1) Prépare ton cahier et écris la phrase du jour.

Dans cette rivière, nos voisins attrapent du poisson.

a- Je souligne le verbe, j'écris son infinitif puis j'entoure le sujet.

b- J'écris cette phrase en mettant le sujet au singulier.

c- Je remplace le sujet par le pronom personnel "tu"

2) Lis, épèle puis recopie les mots pour la dictée.

			Mot invariable
faim	œufs	jambon	vraiment



3) Grammaire : Nous allons continuer à apprendre le verbe avoir.

Le verbe avoir au présent

j'ai	nous avons
tu as	vous avez
il a	ils ont
elle a	elles ont

Complète avec le pronom personnel qui convient.

..... a un cartable.

.....as de la chance !

..... avons chaud.

..... avez faim.

..... ont des poux.

..... a un vélo.

..... avez soif.

..... ai six ans.

..... as trop sommeil.

..... ont froid.

Fais cet autre exercice pour t'entraîner et indique-moi le mot secret.

<https://learningapps.org/watch?v=ppgizy20520>



4) Lexique : Pour chaque liste, range les mots dans l'ordre alphabétique.

Liste 1	tulipe – iris – anémone – jonquille
Liste 2	pantalon – veste – robe – costume – jupe
Liste 3	aujourd'hui – demain – hier – bientôt – maintenant
Liste 4	grammaire – genou – galop – gorille
Liste 5	famille – face – faucon – fantôme



5) Lecture : Lis ces phrases puis réponds aux questions.

- Frédéric descendit de son vélo et dit bonjour à Madame Leloup en lui tendant deux lettres et une carte postale.
 - a) Quel est le métier de Frédéric ?

- Fifi tremblait de tout son corps. Coincée au fond de son trou, elle voyait les griffes de Minou qui essayait de l'attraper...
 - b) Qui est Fifi ?
 - c) Pourquoi tremble-t-elle ?

6) Dictée



Tu as vraiment faim. Tu attrapes des oeufs et du jambon.



Récréation : Une petite pause s'impose.

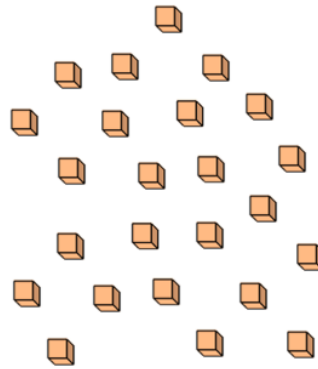
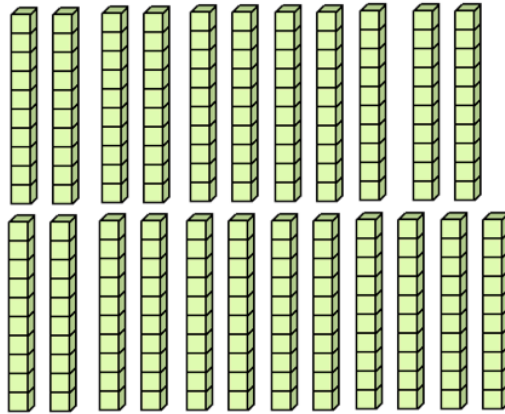


7) Calcul mental


$50-20 =$	$130-20 =$	$70-40 =$	$100-50 =$	$90-60 =$
$86-30 =$	$27-10 =$	$43-20 =$	$62-50 =$	$29-9 =$



8) Nombres : Ecris le nombre représenté en chiffres, en lettres puis en faisant une addition.




Grandeurs et mesures : Dans ce porte-monnaie, il y a 24€ et 3 centimes. Je dépense 12€ et 52 centimes. Combien me reste-t-il ?





9) Espace et géométrie : Reproduis cette figure et complète-la par symétrie.



DIVERS



10) Silence on lit :


<https://www.youtube.com/watch?v=Zj8FsRGHfI4>

- Débat / Réflexion -



11) Débat philo : Regarde l'image suivante et donne-moi ton avis.

« C'EST QUOI UN AMI ? »



12) Sport : On se dépense.

https://www.youtube.com/watch?v=Yt0wuk_bOXI

13) Continue ta progression sur Lalilo et Matheros.