




Vendredi 19 juin 2020

1. Phrase du jour

Un grand cerisier pousse dans ton jardin.

- a- Je souligne le verbe, j'écris son infinitif puis j'entoure le sujet en bleu.
- b- Je colorie les 2 noms communs en jaune.
- c- Je colorie les 2 déterminants en bleu clair.
- d- Je réécris la phrase au pluriel.

2. Lis, épèle puis recopie les mots pour la dictée.

			mot invariable
les chaussettes	changer	une paire	chaque

3. Grammaire : Choisis le verbe être ou le verbe avoir puis complète les phrases.

Nous _____ contents de vous revoir.

Tu _____ 8 ans.

Les enfants _____ calmes.

Cette petite fille _____ un grand chapeau.

Nous _____ intéressés par la musique.

Toi et moi _____ froid dehors.

4. Lexique : Range chaque liste dans l'ordre alphabétique.

Liste 1	voiture - train - chapeau - bateau - domino
Liste 2	planche - terrasse - porte - joie - content
Liste 3	brume - nuage - pluie - gouttes - vent
Liste 4	jupe - jaune - louve - artiste - joli
Liste 5	girafe - guirlande - gencive - génie - guitare

5. Lecture : Lis ce nouveau chapitre puis réponds aux questions.

Les minuscules - Roald Dahl

Chapitre 6

Magnifique ! s'exclama-t-il. Toutes les pièces sont-elles aussi jolies ?

- La plupart sont plus petites, répondit le vieux Minuscule. Celle-ci est immense parce que je suis le maître de cet arbre. Mon nom est Don Mini. Quel est le tien ?

- Petit Louis.

- Bonjour, Petit Louis, dit Don Mini. Si tu désires contempler d'autres pièces, tu es le bienvenu. Nous en sommes très fiers.

Toutes les familles souhaitaient montrer leur logis au visiteur.

- Le nôtre ! Le nôtre ! criaient-elles en se pressant le long des branches.

Et la visite commença. Par la fenêtre, Petit Louis aperçut une salle de bains comme la sienne mais cent fois plus petite. Par une autre, il vit une salle de classe avec plein de petits pupitres et, au fond, un tableau noir. Dans un coin de chaque pièce, un escalier menait à l'étage supérieur. Tandis que Petit Louis passait d'une fenêtre à l'autre, les Minuscules le suivaient en groupe, souriant à ses cris d'admiration.

- Merveilleux ! c'est bien plus joli que chez moi !

Quand la visite fut terminée, Petit Louis se rassit sur sa branche.

- J'ai passé un excellent moment avec vous, déclara-t-il au peuple des Minuscules, mais comment rentrer chez moi ? Ma mère doit être folle d'inquiétude.

- Tu ne pourras jamais descendre de cet arbre, dit Don Mini. Je t'ai averti. Si tu es assez bête pour essayer, tu seras mangé en trois secondes.

- Par l'Engoulesang ? s'enquit Petit Louis. Par l'Horifiant Engoulesang Casse Moloch Ecrase-Roc ?

- Je n'en ai jamais entendu parler. Mais celui qui t'attend en bas est le terrible Goinfrognard cracheur de fumée rouge. Il se goinfre de tout, dans la forêt, de centaines d'humains et de milliers de Minuscules. Si nous habitons en hauteur, c'est pour nous protéger. Son nez magique le rend très dangereux. Grâce à lui, il peut sentir un humain, un Minuscule ou tout autre animal à dix kilomètres. Alors, il se met à galoper à toute vitesse. Il ne voit jamais ce qu'il y a devant lui à cause de la fumée qu'il crache par le nez et la gueule, mais cela ne le gêne pas. Son nez lui dit exactement où aller.

- Quel est le nom du vieux minuscule?

.....

- Que souhaitait chaque famille de minuscules?

.....

- Colorie le nom du monstre pour les minuscules.

Goinfrognart

Gonfroignart

Goinfrognard

Goinfrognarb

6. Dictée

Tu changes de chaussettes chaque jour.
Tu prépares une nouvelle paire de chaussettes
pour demain.

Récréation: une petite pause s'impose!

7. Calcul mental :

$120 - 10 =$	$55 - 5 =$	$74 - 74 =$	$200 - 50 =$	$60 - 40 =$
$59 - 8 =$	$46 - 25 =$	$95 - 15 =$	$91 - 87 =$	$53 - 32 =$

8. Retrouve le nombre à partir de sa décomposition.

$$(4 \times 100) + (6 \times 10) + 2 = 462$$

$$(4 \times 10) + 6 + (3 \times 100) = \dots\dots$$

$$(5 \times 100) + (6 \times 10) + 9 = \dots\dots$$

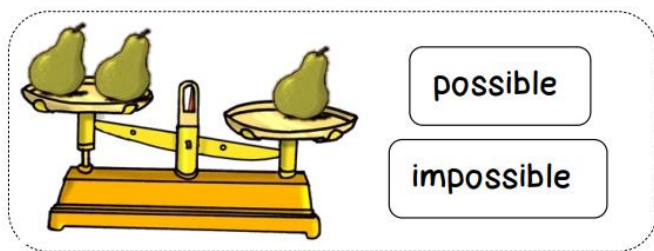
$$(8 \times 10) + (9 \times 100) = \dots\dots$$

$$(1 \times 10) + (9 \times 100) + 4 = \dots\dots$$

$$8 + (4 \times 100) = \dots\dots$$


9. Grandeurs et mesures : Choisis puis dessine les masses marquées pour équilibrer les plateaux.

10. Grandeurs et mesures : Colorie la réponse correcte.



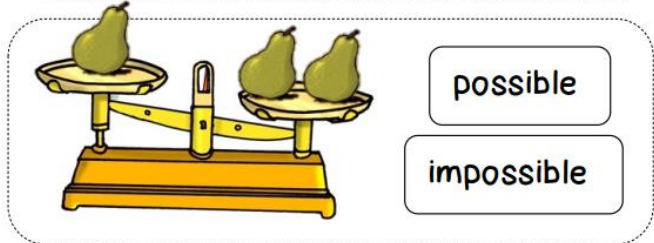
possible

impossible



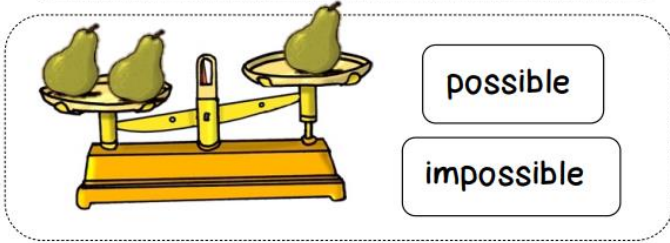
possible

impossible



possible


impossible



possible

impossible

11. Espace et géométrie : Reproduis cette figure.



Divers

12. Silence on lit :

<https://www.youtube.com/watch?v=cjyyIEyrpYo>

13. Débat philo :



14. QLM :

Lis la partie rose dans la page sur les plants de tomate de la classe.

15. Sport:

<https://www.youtube.com/watch?v=30h3Y15BEGA>

16. Continue ta progression sur Lalilo et Matheros.