

Bonjour ,voici le travail pour aujourd'hui Vendredi 10 avril.

## Français

### Écriture :

-écrire la date d'aujourd'hui : Vendredi 10 avril 2020

- Faire une ligne de « L » majuscule. Attention on fait les lettres en attaché !

-Écrire la phrase « Lundi, Lalie, Ludwig, Leclau et Leen sont allés à Londres. »

### Orthographe:

-apprendre les mots noirs

-écrire ces mots sans erreurs sur le cahier.

### Vocabulaire : les mots synonymes et les mots de sens contraire.

-lire la leçon dans l'encadré jaune de la partie « J'ai compris »

-faire les exercices 1 et 2

(document en pièce jointe)

### Lecture :

-lecture -compréhension :

\*lire le texte le texte et dessine la « drôle de bobine » de la mère sorcière.

Envoie- moi une photo si tu peux .

## Zara, la mère

- 1  Pour commencer, fais un grand rond noir en bas de la feuille : c'est la tête de Zara.
- 2  Zara a toujours sur la tête un chapeau pointu tout noir.
- 3  Pour faire les yeux de la sorcière, fais deux ronds rouges.
- 4  Colorie-les en jaune, et fais un petit point noir au milieu.
- 5  Zara a un grand nez crochu : fais-le en rouge.
- 6  Sur le nez, Zara a un gros bouton tout vert avec quatre poils noirs.
- 7  Zara a une grande bouche rouge qui sourit.
- 8  On voit toujours cinq dents pointues qui dépassent. Fais-les en noir.
- 9  Zara a de grands cheveux verts ondulés comme des spaghettis.
- 10  Fais deux ronds tout rouges sur ses joues. Ce sont ses pommettes.
- 11  Pour finir, accrochée à son chapeau, une araignée toute rouge avec des yeux noirs, pend à un fil.

Voilà ! Le portrait de Zara est terminé !

## Mathématiques

### -Calculs rapides :

$17\ 000 + 300$

$19\ 000 + 500$

$10\ 000 + 700$

$18\ 000 + 400$

$16\ 000 + 400$

$40\ 000 + 600$

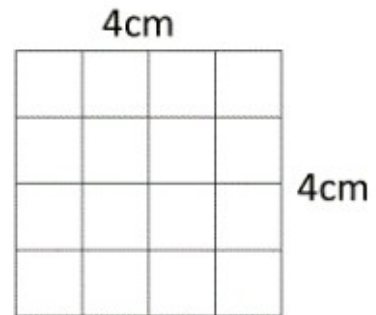
### -Grandeurs et mesures : périmètres et aires

1)



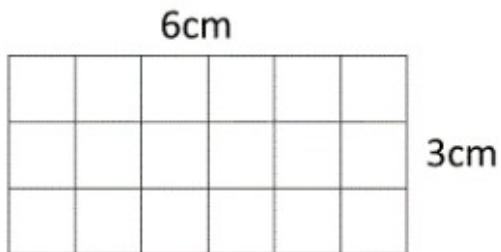
Périmètre = \_\_\_\_\_ cm

2)



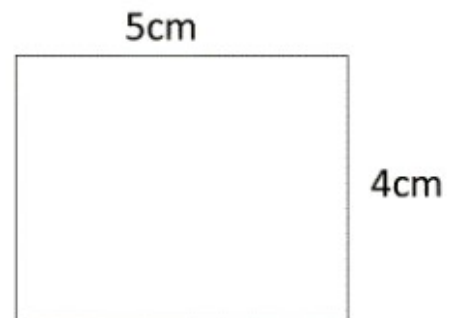
Périmètre = \_\_\_\_\_ cm

3)



Périmètre = \_\_\_\_\_ cm

4)

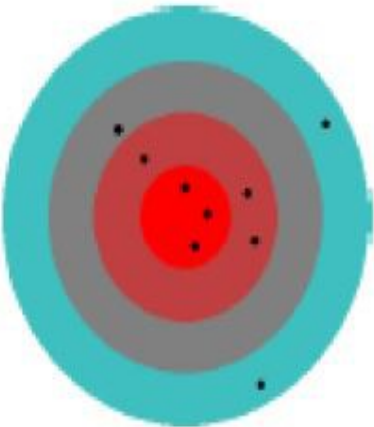
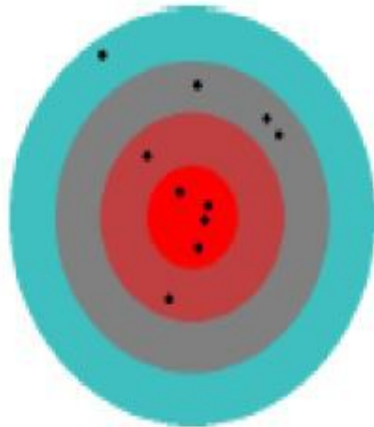
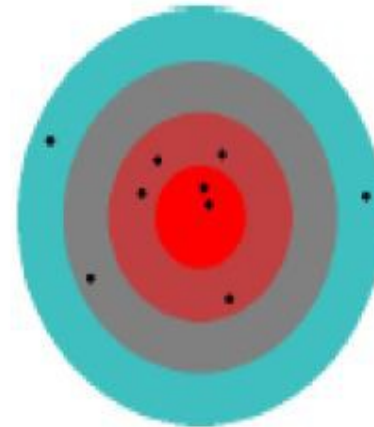
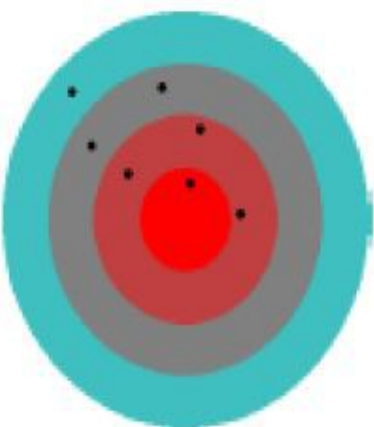
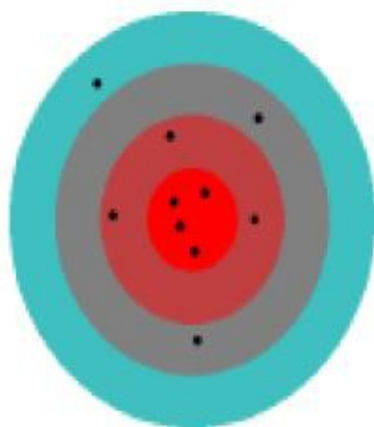
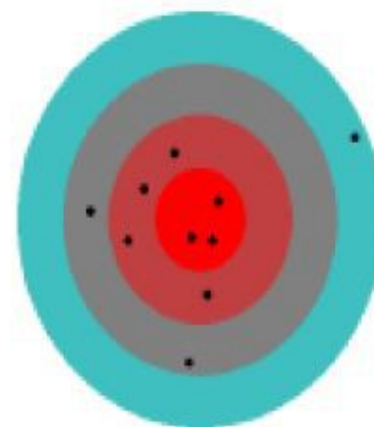


Périmètre = \_\_\_\_\_ cm

**\*Trouve l'aire des figures 1 , 2 et 3 en carreaux.**

**Défi maths** : trouve le nombre de points gagnés pour chaque lancer

1 000	100	10	1
-------	-----	----	---

		
Score : ..... points	Score : ..... points	Score : ..... points
		
Score : ..... points	Score : ..... points	Score : ..... points

## Anglais

\*Aujourd'hui on travaille sur la « présentation en anglais »

« My name is..... What's your name ?

Je m'appelle.... Comment tu t'appelles ?

How are you ? I'm fine thank you

Comment vas-tu ? Je vais bien.

-regarde la petite vidéo en cliquant sur le lien en dessous.

<https://www.youtube.com/watch?v=m1McPCnixOY>

-essaie de jouer au jeu de la présentation avec quelqu'un chez toi  
pour t'entraîner.