





Voici le calendrier des mois de mars et avril . Regarde bien et réponds aux questions suivantes :

- 1) Combien y a-t-il de jours dans chaque mois.
- 2) Combien y a-t-il de dimanches dans ces deux mois?
- 3) Il y a un jour férié au mois d'Avril. Trouve le .
- 4) Quel jour commence le printemps ?

 <b>MARS</b> 2020			 <b>AVRIL</b> 2020		
D	1		Me	1	
L	2		J	2	
Ma	3		V	3	
Me	4		S	4	
J	5		D	5	
V	6		L	6	
S	7		Ma	7	
D	8		Me	8	
L	9		J	9	
Ma	10		V	10	
Me	11		S	11	
J	12		D	12	Pâques
V	13		L	13	L. de Pâques
S	14		Ma	14	
D	15		Me	15	
L	16		J	16	
Ma	17	St Patrick's day	V	17	
Me	18		S	18	
J	19		D	19	
V	20	PRINTEMPS	L	20	
S	21		Ma	21	
D	22		Me	22	
L	23		J	23	
Ma	24		V	24	
Me	25		S	25	
J	26		D	26	
V	27		L	27	
S	28		Ma	28	
D	29		Me	29	
L	30		J	30	
Ma	31				

*Trouve l'heure pour chaque pendule.*

Indique l'heure du matin et de l'après-midi en dessous de chaque horloge.

				
matin	___ h ___ min	___ h ___ min	___ h ___ min	___ h ___ min
après-midi	___ h ___ min	___ h ___ min	___ h ___ min	___ h ___ min

**Correction :**

- 1) *31 jours pour mars et 30 pour avril*
- 2) *Il y a 9 dimanches*
- 3) *le lundi de Pâques.*
- 4) *Le vendredi 20 mars*

<i>MATIN</i>	<i>2h30</i>	<i>6H15</i>	<i>8H45</i>	<i>5H05</i>
<i>ARES-MIDI</i>	<i>14h30</i>	<i>18H15</i>	<i>20H45</i>	<i>17H05</i>