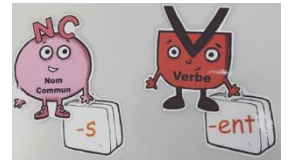


## FRANCAIS

1) Je prépare mon cahier comme d'habitude, en mettant la date Mardi 24 mars.

2) Phrase du jour : Copie la phrase *Ce matin, l'enfant joue dans le jardin.*

- a/ Puis écris cette phrase à la forme négative. (ne ... pas, cela t'aidera à trouver le verbe)
- b/ Souligne le verbe et indique son infinitif. (le verbe : c'est l'action de la phrase)
- c/ Entoure le groupe sujet. (le sujet est celui qui fait l'action)
- d/ Récris cette phrase au pluriel. (pense aux marques du pluriel)
- e/ Remplace le sujet par le pronom personnel « vous » (Tu peux t'aider de la leçon jointe.)



3) Écriture : mots de la dictée.



Relis plusieurs fois les mots, épelle-les puis écris-les plusieurs fois dans ton cahier :

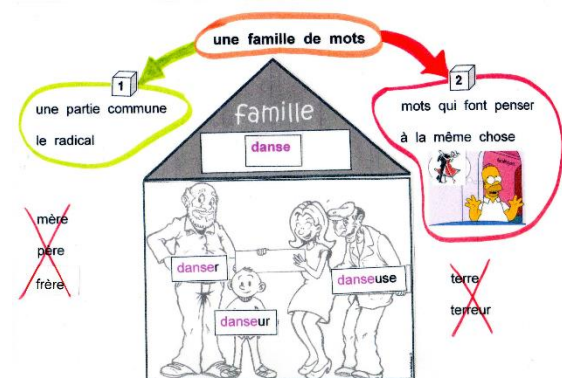
*le soir / les étoiles / jouer / noir, noire / les fourmis / les mouches*

4) **Poésie** : Révise les 6 premiers vers de la poésie, récite-la et enregistre-toi (ce n'est pas la peine pour ceux qui me l'ont déjà envoyé).

5) Lexique : Les familles de mots.

Fais l'exercice et prends le résultat en photo.

[Exercice en ligne](#)



6) Dictée : Ecris les phrases dictées (bande son jointe)

7) **Petit défi** : Si tu ne l'as pas fait hier, écris le nom de 5 fruits, dessine-les sur une feuille puis prends-toi en photo avec ton travail.

8) Lecture : Lis le documentaire sur la girafe puis réponds aux questions. Un adulte peut écrire les réponses pour toi.



## QUESTIONNER LE MONDE

9) Observe bien les images (document QLM joint) puis regroupe celles qui te semblent évoquer le même type de paysage en mettant leurs numéros ensemble.



Groupe A : .....

Groupe B : .....

Groupe C : .....

Groupe D : .....

N'oublie pas de m'envoyer ton travail.



Rends-toi sur Lalilo (si tu n'y arrives pas contacte moi) et effectue l'évaluation si ce n'est pas encore fait ou bien avance un peu dans ton parcours (environ 15 à 30 minutes)

## MATHEMATIQUES

### 1) Calcul mental à l'oral :

Dans 14, combien de fois 2?

Dans 18, combien de fois 2?

Dans 16, combien de fois 2?



Dans 20, combien de fois 2?

Dans 10, combien de fois 2?

Dans 12, combien de fois 2?

25 - 5 =      17 - 5 =      10 - 5 =      5 - 5 =      16 - 5 =      19 - 5 =

3 x 10 =      6 x 10 =      8 x 10 =      2 x 10 =      5 x 10 =      7 x 10 =

### 2) Problème : Lilou et Louise collectionnent les images de basket.

Écris le nombre d'images que possède chaque enfant.



3 boîtes de 100 images

Lilou

Louise

7 images



23 pochettes de 10 images



15 images



53 pochettes de 10 images



Qui a le plus d'images ? Explique pourquoi.

### 3) Nombres : Complète :



le nombre juste avant		le nombre juste après
245	246	247
.....	451	.....
.....	743	.....
.....	809	.....
.....	982	.....
.....	501	.....


### 4) Géométrie : [Symétrie par remplissage](#) (Appuie sur ta touche CTRL et clique sur ce lien)

N'oublie pas de m'envoyer ton travail.



Rends-toi sur Matheros pour passer tes ceintures de compétences (environ 15 à 30 minutes).

Nos héros sur Matheros :



Une histoire à écouter : [Le petit chaperon rouge](#)



Un peu de yoga : Essaie de faire comme sur les photos et envoie une photo de ta position préférée.



Un cube énergie : [C'est parti!](#) ( Allez je tente de faire la suite !)