


Mercredi 1^{er} avril

FRANÇAIS




1) Je prépare mon cahier en mettant la date Mercredi 1^{er} avril

2) Phrase du jour : Copie la phrase

Le petit poisson rouge nage dans l'aquarium.

- a/ Puis écris cette phrase à la forme négative. (ne ... pas, cela t'aidera à trouver le verbe)
- b/ Souligne le verbe et indique son infinitif. (le verbe : c'est l'action de la phrase)
- c/ Entoure le groupe sujet. (le sujet est celui qui fait l'action)
- d/ Réécris cette phrase au pluriel. (pense à mettre les marques du pluriel)
- e/ Remplace le sujet par le pronom personnel « vous » (Tu peux t'aider de la leçon jointe.)



3) Lexique : Travaille sur le lexique de la mer.

Mer 1 : <https://learningapps.org/watch?v=pm6rig1cn20>

Mer 2 : <https://learningapps.org/watch?v=p8bckcoet20>



4) Lecture/Compréhension : En pièce jointe le texte du livre "Thérèse Miaou: Touche pas à mon coussin" et le questionnaire de 10 questions. Lis le texte en entier puis réponds aux 10 questions. Chaque question vaut un point. Ecris le numéro de la question et réponds par une phrase sur le cahier.



N'oublie pas de m'envoyer ton travail.

MATHÉMATIQUES



5) Calcul mental

$8 \times 2 = \dots\dots$

$5 \times 10 = \dots\dots$

$7 \times 2 = \dots\dots$

$\dots \times 10 = 90$

$\dots \times 2 = 16$

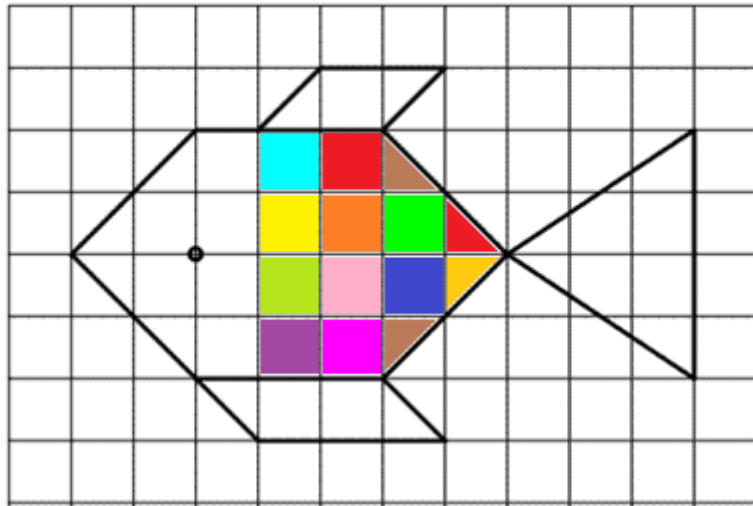
$1 \times 5 = \dots\dots$

$2 \times 5 = \dots\dots$

$3 \times 5 = \dots\dots$

6) Espace et géométrie :

★ Reproduis ce poisson sur le quadrillage de ton cahier.



★ Forme les paires de poissons identiques.

<https://learningapps.org/view2994406>

★ Indique dans quelle case se trouve chaque poisson en utilisant les flèches de couleur.

	1	2	3	4	5	6	7	8
A								
B								
C								
D								
E								
F								
G								
H								

(.....)

(.....)







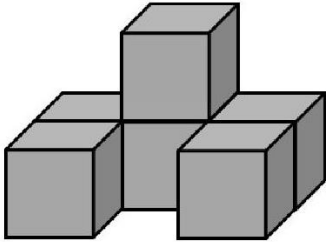

(.....)

(.....)









(.....)

(.....)

7) Problèmes :

? 	La boite à énigmes ★	1	? 	La boite à énigmes ★	2
 <p>A – Combien d'argent y a-t-il dans la poche ? B – Il a payé un livre avec 50€. Dans sa poche, c'est la monnaie qui reste. Combien a coûté le livre ?</p>			 <p>A – Combien de pièces manque-t-il à ce puzzle ? B - Combien y a-t-il de pièces au total dans ce puzzle ?</p>		
? 	La boite à énigmes ★	3	? 	La boite à énigmes ★	4
 <p>A - Combien y a-t-il de cubes ? B- Combien faut-il de cubes pour faire un bloc de trois cubes de long sur deux cubes de hauteur ?</p>			 <p>A – Si je coupe les tomates en deux, combien j'aurai de morceaux de tomates ? B – Si je coupe les tomates en quatre, combien j'aurai de morceaux de tomates ?</p>		

Uniquement pour ceux qui le souhaitent :

? 	La boite à énigmes ★	5	? 	La boite à énigmes ★	6
 <p>A- Quelle est la température ? B- Demain, il fera 6 degrés de moins. Quelle sera alors la température ?</p>			 <p>A – Combien y a-t-il de boîtes aux lettres ? B- Chaque boîte aux lettres correspond à une famille de trois personnes. Combien de personnes vivent dans cet immeuble ?</p>		
? 	La boite à énigmes ★	7	? 	La boite à énigmes ★	8
 <p>A –Comment s'appelle ce solide ? Combien a-t-il de faces ? B – Combien faut-il de petites cubes pour reconstruire ce solide ?</p>			 <p>A – Combien pèse ce monsieur ? B – Il pesait 100 kg avant. Combien de kg a-t-il perdus ?</p>		

DIVERS

8) Une chanson à écouter sur le thème du jour :

<https://www.youtube.com/watch?v=uhGf2WzAS84>

9) Deux histoires à écouter sur le thème du jour :

★ <https://read.bookcreator.com/EyrH9mdChFOEHcS4tCMVLvgbi9s1/08944A99-540A-409F-973C-407E01EAEA87>

★ <https://read.bookcreator.com/r9PILUTwukblXUBNA8AgD9yY0Z13/6dQz7nVCSF-uxovm15tP1g>

10) Pour ceux qui le souhaitent, vous pouvez dessiner quelques poissons. Je ferai un montage avec vos productions marines 😊

Comment dessiner des poissons

