

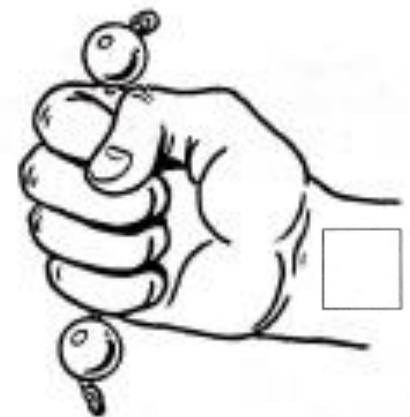
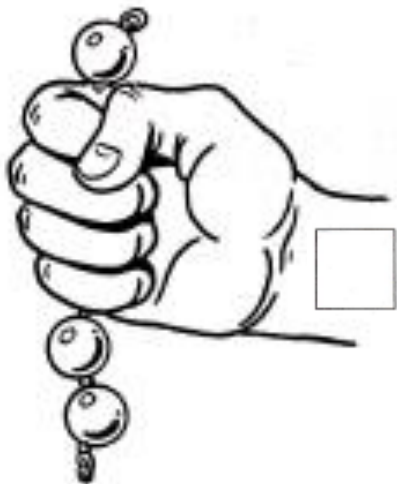
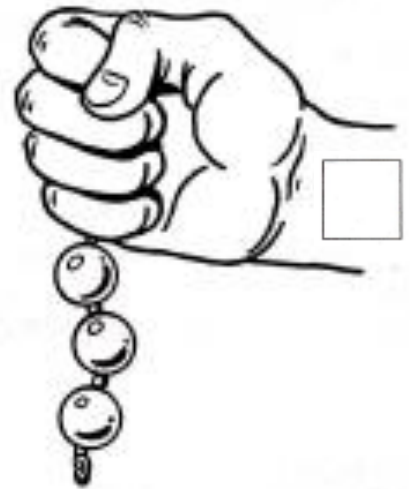
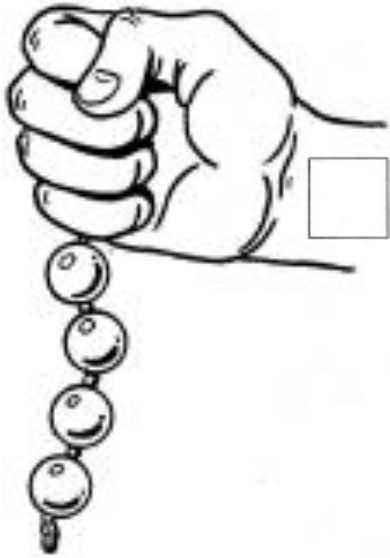


Calcul rapide

Prénom : _____

Date : _____

Alfred a un collier de 5 perles. Combien en cache-t-il dans sa main ?
J'écris le nombre de perles cachées dans le cadre.



Louis a caché des figures avec sa main. Combien en a-t-il caché à chaque fois ?
J'écris le nombre de figures cachées dans le cadre.

