




Mercredi 17 juin 2020

1. La phrase du jour

Heureusement, Michel et toi lancez la balle très loin.

- a- Souligne le verbe, écris son infinitif puis entoure le sujet.
- b- Ecris cette phrase au singulier.
- c- Colorie le nom commun en jaune et le nom propre en rouge.
- d- Colorie les déterminants en bleu clair.
- e- Remplace le sujet par un pronom personnel.

2. Les mots à savoir écrire : à écrire au moins 3 fois chacun.

	mots invariables		
un chapeau	pour	protéger	les enfants

3. Lexique : Colorie les mots d'une même famille de la même couleur et donne un titre à chaque famille en coloriant l'étiquette de la même couleur.

- lundi
- crayon
- bande dessinée
- bracelet
- album
- roman
- bague
- jeudi
- feutre
- Espagne
- collier
- Maroc
- France
- dictionnaire
- boucle d'oreille
- Italie
- stylo
- vendredi
- samedi
- craie

Five blank labels with dashed lines for writing titles.

4. **Grammaire : Conjugue les verbes suivants au présent avec le pronom personnel nous.**

penser, danser, voler, jouer, crier, caresser, tomber, prier, aimer

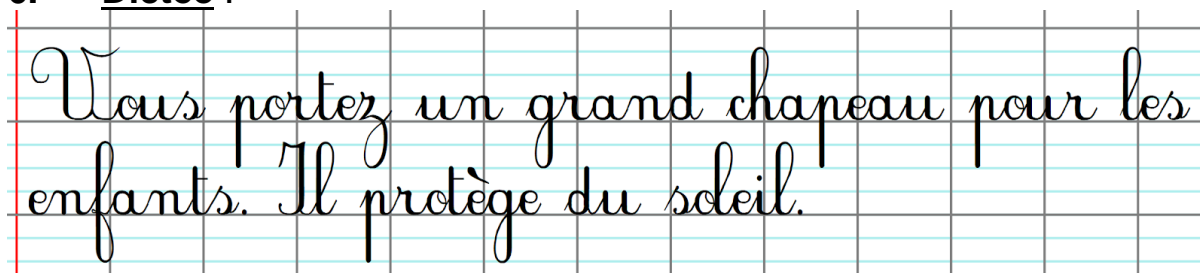
5. **Dans les phrases colorie les noms en jaune et les déterminants en bleu clair.**

Aujourd'hui, il arrive en retard chez le coiffeur.

En rentrant, Papa pose les courses sur le sol de la cuisine.

Ma famille chante à la chorale organisée par l'école.

6. **Dictée :**



Vous portez un grand chapeau pour les enfants. Il protège du soleil.

Récréation : Une petite pause s'impose.

7. **Calcul mental :**

Quel nombre ajoute-t-on à 132 pour obtenir 140?

Quel nombre ajoute-t-on à 257 pour obtenir 260?

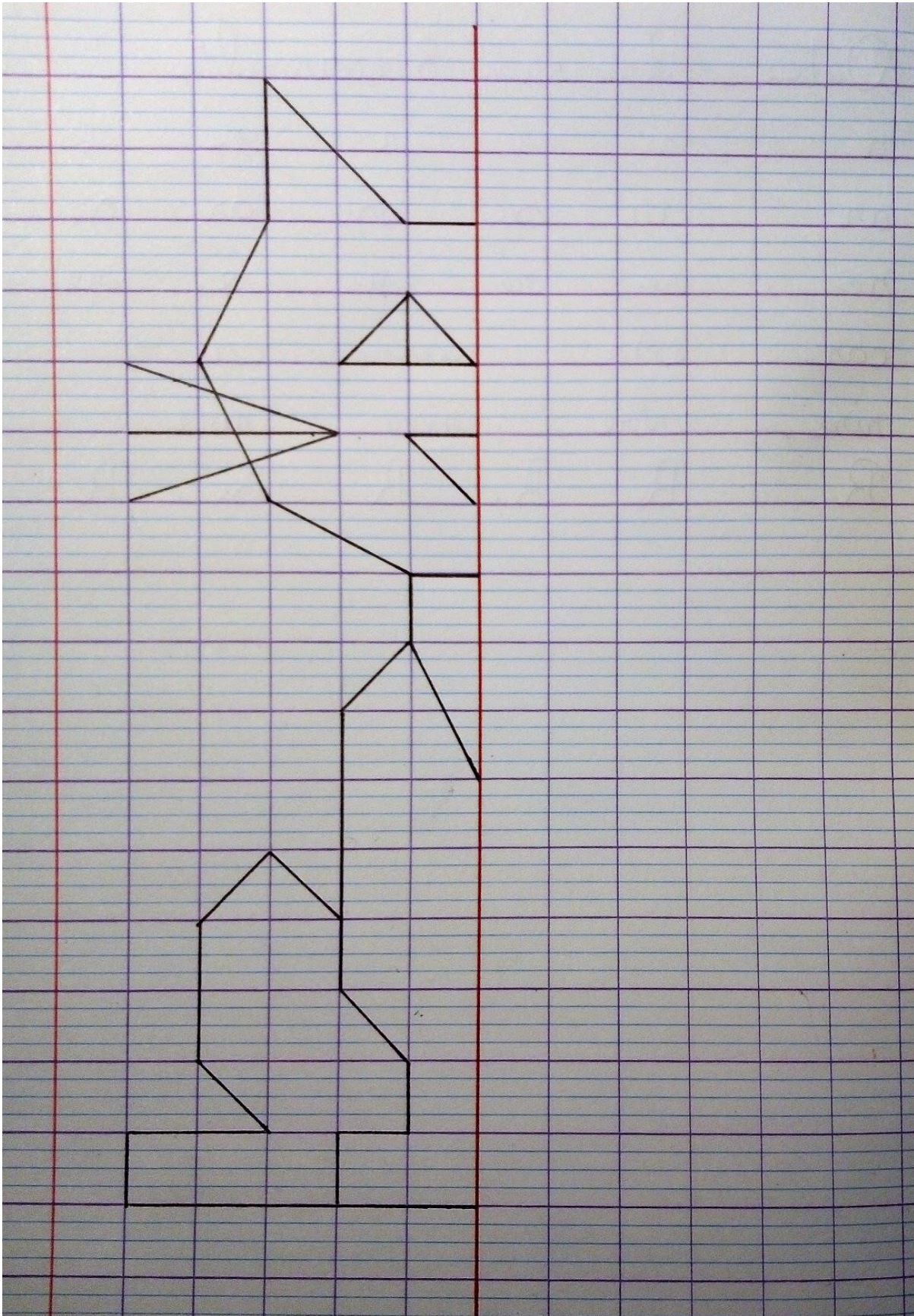
Quel nombre ajoute-t-on à 726 pour obtenir 730?

Quel nombre ajoute-t-on à 845 pour obtenir 850?

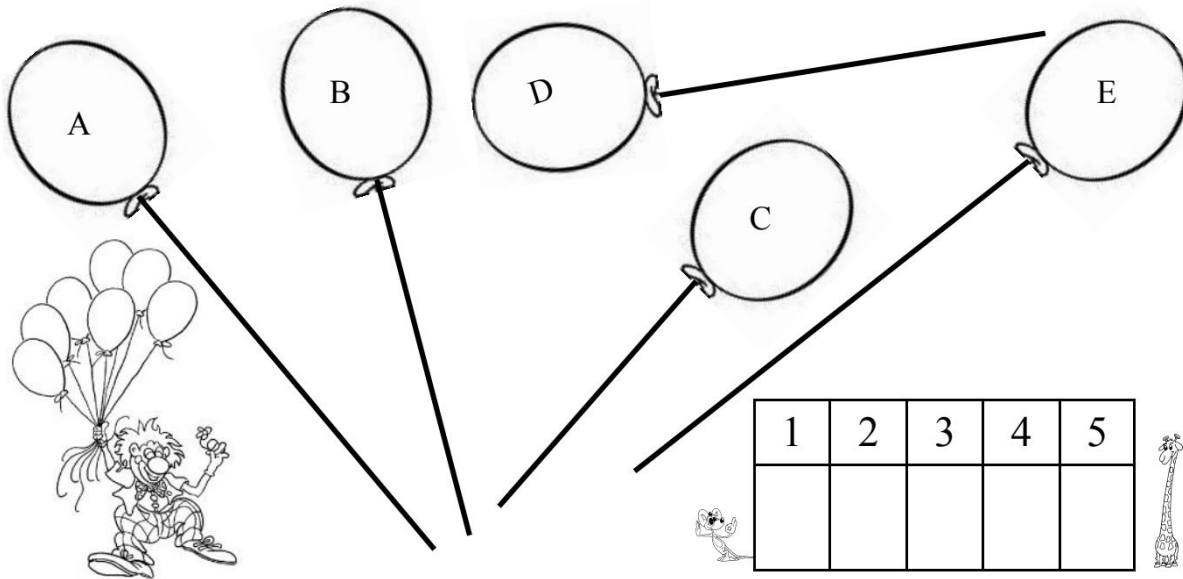
8. **Nombres : Ajoute 5 pour avancer d'une case.**

524	529								
-----	-----	--	--	--	--	--	--	--	--


9. Symétrie : Reproduis le dessin par symétrie.



10. Grandeurs et mesures : Range les ballons de la plus petite à la plus grande ficelle.




11. Problème en image :



1. Combien y-a-t-il de spectateurs assis dans la tribune de gauche :
2. Sont-ils plus nombreux dans celle de droite ?
3. Calcule le nombre total de spectateurs en faisant une addition :
4. Combien l'équipe de Créteil doit-elle marquer de buts pour que le score soit égal ?
5. A quelle heure se termine la rencontre s'il ne reste que 10 minutes de jeu ?
6. Repasse en pointillé le centre du terrain.
7. Numérote le dossard des joueurs portant un numéro pair.
8. Représente un gardien de but dans la cage près des arbres.
9. Ajoute des drapeaux à chaque angle du terrain.
10. Dessine le ballon à l'extérieur du terrain, côté opposé à la tribune de gauche.

Dessine une tenue de footballeur.



Divers

11) Silence on lit : <https://vimeo.com/399169376>

12) Continue ton parcours sur Lalilo et Matheros.