



Mardi 26 mai 2020

Ecris la date sur ton cahier



1) **La phrase du jour** : S'entraîner c'est s'améliorer.

Doucement, le maitre caresse les oreilles et le dos du chiot.

- a) Je souligne le verbe, j'écris son infinitif puis j'entoure le sujet.
- b) J'écris cette phrase au pluriel.
- c) Je remplace le sujet par le pronom personnel "tu"



2) **Les mots à savoir écrire** : à écrire au moins 3 fois chacun.

		mot invariable	
lait	enfant	car	joues



3) **Lexique** : Deux familles de mots ont été mélangées ! Classe les mots en deux colonnes puis trouve le nom de chaque famille.

dentifrice – édenté – conter – dentaire – conteur – raconter

Famille : _____	Famille : _____



4) Grammaire : Conjugue ces verbes au présent.

- Je très loin. (sauter)
 Ils la voiture. (laver)
 Vous très vite. (avancer)
 Tu un bonbon. (manger)
 Elles un cadeau. (acheter)
 Elle à la télévision. (passer)
 Nous les poissons. (regarder)
 Vous vite à l'ordinateur. (taper)

CHANTER
je chante
tu chantes
il chante
elle chante
nous chantons
vous chantez
ils chantent
elles chantent

Tu peux faire ce jeu : <https://learningapps.org/watch?v=p2r8xi5na20>




5) Dictée : phrases à dicter aux enfants, à écrire et envoyer en photo.

Les petits enfants se lavent les joues car ils ont des moustaches de lait.



RÉCRÉATION : UNE PETITE PAUSE S'IMPOSE.



6) Calcul mental

3x5 =	6x2 =	8x4 =	4x10 =	9x3 =
7x4 =	5x5 =	0x3 =	4x3 =	9x4 =

Pour bien réviser la table de 4:

<https://www.tablesdemultiplication.fr/happy-burger.html>




7) Nombres : Ajoute 100 pour avancer d'une case.

254	354						
-----	-----	--	--	--	--	--	--




8) Grandeurs et mesures : Voici la tirelire de Nicolas. Il veut acheter un jeu à 46€ et 18 centimes. Combien lui restera-t-il ensuite ?



9) Problèmes

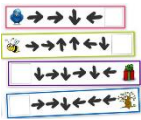
- ★ Dans un restaurant, il y a 8 tables de 4 places. Combien ce restaurant peut-il recevoir de clients ?
- ★ Thomas colle des images dans un cahier. Il a rempli 10 pages. Sur chaque page il a collé 6 images. Combien d'images a-t-il collées ?
- ★ Dans un restaurant, il y a 10 tables de 5 places, 2 tables de 3 places et une table de 8 places. Combien ce restaurant peut-il recevoir de clients ?
- ★ Qui a le plus d'argent ? Vincent ou Fabrice ?

Vincent











Fabrice






10) Espace et géométrie : Attention les flèches arrondies signifient qu'on pivote à l'intérieur de la case dans laquelle on se trouve sans avancer et la flèche vers le haut signifie qu'il faut avancer dans la direction où on est tourné et donc pas forcément vers le haut.

★ Voici le chemin qu'a suivi la tortue. Combien de salades a-t-elle mangées ?

↑	↻	↑	↑	↑	↻	↑	↑	↻	↑	↑	↻	↑
												
												
												
												
												

★ Décode les 3 trajets. Pour chaque trajet, écris les prénoms des enfants dans l'ordre de leur montée dans le bus.

	Kim			
			Line	
Oscar				
				Noa
	Alya			
				

Trajet 1.

↑	↑	↑	↻	↑	↑	↻	↑	↑	↑
---	---	---	---	---	---	---	---	---	---

Trajet 2.

↻	↑	↑	↑	↑	↻	↑	↑	↻	↑	↻	↑
---	---	---	---	---	---	---	---	---	---	---	---

Trajet 3.

↑	↻	↑	↑	↑	↑	↻	↑	↑	↑	↻	↑	↑	↑	↻	↑
---	---	---	---	---	---	---	---	---	---	---	---	---	---	---	---



11) Silence on lit **OU** on écoute **OU** les deux

<https://www.franceinter.fr/emissions/une-histoire-et-oli/la-vie-secrete-de-doudou-lapin>



12) Etudions une œuvre d'art : La Joconde

<https://forms.gle/WA4VSBskUDGxAtnB9>



13) Chanson : https://www.youtube.com/watch?v=jHLunSE98_I



14) Pour bouger : <https://www.youtube.com/watch?v=nPXZpQz4v7Y>

15) Je continue mon parcours sur Lalilo et Matheros.

