



La boite à énigmes ★

1



- A** – Combien y a-t-il d'œufs dans la boîte ?
B – Combien en faut-il pour faire une douzaine d'œufs ?



La boite à énigmes ★

2



- A** – Combien y a-t-il de pétales sur chaque fleur ?
B – Combien y aura-t-il de pétales en tout avec 3 fleurs ?



La boite à énigmes ★

3



- A** – Si cet oiseau attrape 5 poissons par jour combien de poissons aura-t-il attrapé en 1 semaine ?
B – Il en fait tomber 1 par jour, combien en aura-t-il mangé en 1 semaine ?



La boite à énigmes ★

4



- A** – Combien y a-t-il de fleurs sur cette branche ?
B – Combien y aura-t-il de fleurs s'il y a 3 branches ?



La boite à énigmes ★

5



- A** – Combien y a-t-il de chèvres ?
B – Combien ces deux chèvres ont de pattes au total ?



La boite à énigmes ★

6



- A** – Combien y a-t-il de paires de lunettes ?
B – Combien de paquets de 2 paires puis-je faire ?



La boite à énigmes ★

7



- A** – Combien de voyageurs transporte un bateau?
B – Combien de personnes sont transportées par 3 bateaux ?



La boite à énigmes ★

8



- A** – Combien y a-t-il de quartiers dans une orange ?
B – Combien y a-t-il de quartiers dans la moitié d'une orange ?



La boite à énigmes ★

9



- A** – Combien faut-il de chiens pour tirer 2 traîneaux ?
B – Si j'ai 24 chiens combien puis-je tirer de traîneaux ?



La boite à énigmes ★

10



- A** – Si je partage ces tomates en deux paquets, combien y a-t-il de tomates par paquet ?
B – Combien de paquets de 2 tomates puis-je faire ?



La boite à énigmes ★

11



- A** – Nous étions 25 au cinéma et la salle a 50 places, combien restait-il de places vides ?
B – La place de cinéma a coûté 2€ combien le maître a-t-il payé en tout pour ses élèves ?



La boite à énigmes ★

12



- A** – Combien y a-t-il d'éoliennes ?
B – Chaque éolienne a 3 pales, combien y a-t-il de pales en tout sur cette photo ?



La boite à énigmes ★

13



- A** – Combien y a-t-il de variétés différentes de tulipes ?
B – Combien y a-t-il de tulipes au total ?



La boite à énigmes ★

14



- A** – Combien y a-t-il de gouttes ?
B - Chaque goutte mesure 1 cm et il y a 2cm entre chaque goutte, combien mesure ce bout de feuille?



La boite à énigmes ★

15



- A** – Combien de ronds (« yeux ») y a-t-il sur ces plumes ?
B- Il y a deux « yeux » par plumes. Si le paon a 12 plumes, combien cela fait-il au total ?



La boite à énigmes ★

16



- A** – Combien y a-t-il d'escargots ?
B – C'est le dîner d'un hérisson, combien en faut-il pour nourrir 4 hérissons?



La boite à énigmes ★

17



- A – Combien y a-t-il de pattes de zèbres?
B – Si je vois 20 pattes, combien y a-t-il de zèbres ?



La boite à énigmes ★

18



- A – Combien y a-t-il d'aliments différents ?
B – Combien y a-t-il d'aliments en tout ?



La boite à énigmes ★

19



- A – Combien y a-t-il d'éléphants ?
B – Il manque 18 éléphants pour que tout le troupeau soit là.
Quel est le nombre d'éléphants de ce troupeau ?



La boite à énigmes ★

20



- A – Combien y a-t-il de roues sur cette remorque ?
B – Le camion a 6 roues, combien y a-t-il de roues, quand le camion est avec sa remorque ?



La boite à énigmes ★

21

- A** – Combien y a-t-il de fruits frais dans ce saladier ?
B – Combien y aura-t-il de fruits si j'en ai le double ?



La boite à énigmes ★

22

- A** – S'il y a 10 graines par potiron, combien y a-t-il de graines pour 2 potirons ?
B – Pour nourrir 3 personnes il faut 1 potiron, combien puis-je nourrir de personnes avec 2 potirons ?



La boite à énigmes ★

23

- A** – Combien y a-t-il d'oisons ?
B – Chacune de ces oies a eu le même nombre d'oisons, quel est le nombre d'oisons de chaque oie ?



La boite à énigmes ★

24

- A** – Combien y a-t-il d'haltères ?
B – Quel est le poids total de ces haltères ?





La boite à énigmes ★

25

- A** – Peut-on faire 19 avec 3 dés ?
B – Comment faire 14 avec 3 dés si l'un d'eux marque 3 ?



La boite à énigmes ★


26

- A** – Combien y a-t-il de boules au billard américain ?
B – Si tu rentres les boules de 1 à 6 , combien marques-tu de points au total ?



La boite à énigmes ★

27



obtenir ?

A – Comment s'appelle cette figure ?

B – Si je colle deux rectangles qui font 10 cm de long et 5 cm de large, quelle figure vais-je



La boite à énigmes ★

28


A-B-C-...-Z

- A** – Combien y a-t-il de lettres dans l'alphabet ?
B – Il y a 6 voyelles (a,e,i,o,u,y) , combien y a-t-il de consonnes ?



La boite à énigmes ★

29



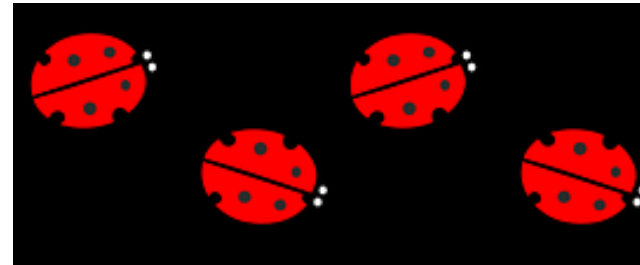
A – Combien y a-t-il d'œufs ?

B – Il faut 6 œufs pour remplir une boîte, combien utiliseras-tu de boîtes pour ranger tous ces œufs ?



La boite à énigmes ★

30



A – Combien y a-t-il d'ailes de coccinelles ?

B – Combien y a-t-il de points au total sur le dos des coccinelles ?