




Jeudi 18 juin 2020

1. Phrase du jour

Nous voyagerons en Italie pendant les vacances.

- a- Souligne le verbe, écris son infinitif puis entoure le sujet.
- b- Ecris cette phrase à la forme négative.
- c- Colorie le nom commun en jaune et le nom propre en rouge.
- d- Colorie le déterminant en bleu clair.
- e- Colorie le pronom personnel en orange.

2. Lis, épèle puis recopie les mots pour la dictée.

			verbe aller
ce soir	il est content	le cinéma	il va

3. Grammaire: Relie les pronoms personnels au verbe qui convient.

Le verbe être au présent			
je suis		nous sommes	
tu es		vous êtes	
il est		ils sont	
elle est		elles sont	

Je ● ● es gentil.

Il ● ● suis fatigué.

Tu ● ● est maline.

Elle ● ● est adorable.

Nous ● ● sommes en retard.


Vous ● ● sont beaux.

Ils ● ● sont belles.

Elles ● ● êtes à l'heure.

4. Lexique : Colorie en vert les fruits à pépins et en jaune les fruits à noyau. Ajoute le bon numéro sur chaque illustration.

1.pomme	2. prune	3. abricot	4. raisin
5. pêche	6. pastèque	7. citron	8. orange
9. poire	10. pamplemousse	11. mangue	12. cerise
13. olive	14. clémentine	15. litchi	16. avocat



5. Dictée

Le petit garçon est content. Ce soir, il va au cinéma.

6. Production d'écrits.

Ton voisin s'appelle Monsieur Padbol. Raconte ce qui lui est arrivé ce matin.

Récréation : Une petite pause s'impose.

7. Calcul mental

$4 \times 8 =$	$3 \times 5 =$	$4 \times 5 =$	$2 \times 6 =$	$6 \times 3 =$
$5 \times 7 =$	$4 \times 6 =$	$6 \times 5 =$	$2 \times 9 =$	$7 \times 3 =$

8. Nombres : Ecris ces nombres en lettres.

354 : trois-cent-cinquante-quatre

453 : _____

362 : _____

9. Calcul : Pose ces additions en colonnes puis calcule.

$$452 + 28 + 352 =$$

$$425 + 325 =$$

10. Problèmes

- Naïphanne lit 3 Wakou chaque jour, combien aura-t-il lu de Wakou au bout de 8 jours ?
- Lola vient et repart de l'école à pied. Elle parcourt 550m pour aller de sa maison à l'école. Quelle distance a-t-elle parcourue lorsqu'elle est venue et repartie de l'école ? Et si elle rentrait manger chez elle, combien de mètres parcourrait-elle ?
- Michaël joue de la clarinette tous les jours pendant 15 minutes. Combien de temps joue-t-il en 4 jours ?
- Murciano a des chats et des canaris. En les observant, on trouve 6 têtes et 16 pattes. Combien Murciano a-t-il de chats et de canaris ?

11. Grandeurs et mesures

Dessine les sommes demandées avec le moins de pièces et de billets possible.

37€ et 14 centimes	57€ et 5 centimes	256€ et 6 centimes
146€ et 72 centimes	268€ et 94 centimes	315€ et 52 centimes

DIVERS

12. Silence on lit

<https://vimeo.com/399641647>

13. Art : Imagine l'arbre des minuscules et dessine-le. N'oublie pas les petites fenêtres et pourquoi pas Petit Louis et quelques minuscules. Pense à le mettre en couleur.



14. Anglais

<https://www.youtube.com/watch?v=XOE4aaaaa-8>

15. Sport

<https://www.youtube.com/watch?v=Sh8wcltPAE4&list=PLbJ45pIUs4JztROYzinAsI3OMLjkRSfLr&index=11>