

Jeudi 11 juin 2020

1) **Phrase du jour :**

Aujourd'hui, Vincent chante sur son vélo de course.


a- Je souligne le verbe, j'écris son infinitif puis j'entoure le sujet en bleu.

b- J'écris cette phrase à la forme négative (ne...pas).

c- J'entoure les 2 noms communs en vert et le nom propre en rouge.

c- Je remplace le sujet par le pronom personnel "nous"

2) **Lis, épèle puis recopie les mots pour la dictée.**

		mot invariable	
soleil	beau	déjà	chaud

3) **Grammaire :** Voici le verbe être au présent :









Le verbe être au présent

je suis	nous sommes
tu es	vous êtes
il est	ils sont
elle est	elles sont

Complète ces phrases.

Tu ..... très gentil.	Il ..... toujours sage.
Nous ..... amis depuis longtemps.	Elle ..... grande.
Je ..... triste.	Vous ..... malades.
Elles ..... souvent en baskets.	Ils ..... frère et sœur.

- 4) **Lexique** : Entoure de la même couleur la photo du fruit, son nom et la plante sur laquelle il pousse. Pour les deux fruits restants, écris leur nom et la plante sur laquelle ils poussent.

fraise	figue	ananas	fraisier
			
prune	raisin	mangue	vigne
ananas	prunier	figuier	manguier
			

5) **Dictée**

Le soleil brille déjà. Il fait beau et chaud.

6) **Production d'écrits:**

On surnomme ta voisine Madame Catastrophe, raconte sa dernière mésaventure.

**Récréation : Une petite pause s'impose.**

7) **Calcul mental :**

$5 \times 3 =$	$4 \times 2 =$	$6 \times 4 =$	$9 \times 3 =$	$0 \times 2 =$
$7 \times 5 =$	$4 \times 4 =$	$8 \times 3 =$	$2 \times 10 =$	$8 \times 4 =$

8) **Nombres : Décompose comme dans l'exemple.**

$236 = 2 \times 100 + 3 \times 10 + 6$	$527 = \dots\dots\dots$
$651 = \dots\dots\dots$	$804 = \dots\dots\dots$
$350 = \dots\dots\dots$	$789 \dots\dots\dots$

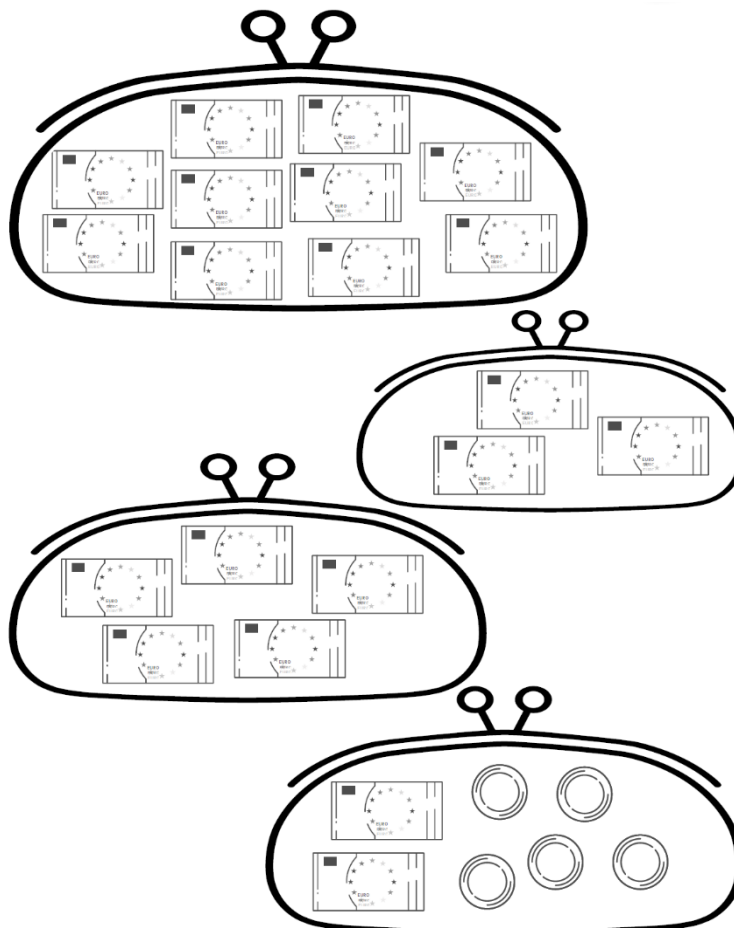
9) **Calcul : Pose ces additions en colonnes puis calcule.**

$332 + 256 + 25 =$

$732 + 409 =$

10) **Problèmes**

- Cherche la valeur de chaque pièce ou billet dessiné pour obtenir la somme de 50€.



- Le jardinier a planté 6 rangées de 5 salades. Les limaces ont mangé 20 salades.  
Combien reste-t-il de salades ?
  - Lucie avait 70 perles. Elle a fabriqué 3 colliers de 20 perles chacun. Combien de perles lui reste-t-il ?
- 11) **Grandeurs et mesures : Voici la tirelire de Lucas. Combien y a-t-il en tout ?**



Lucas décide de s'acheter une nouvelle console de jeu qui coûte 62€12c.  
Combien lui reste-t-il ensuite ?

## DIVERS

- 12) **Silence on lit :**

<https://www.youtube.com/watch?v=rjFy-Ko1SZE>

- 13) **Anglais :** <https://www.youtube.com/watch?v=7T6Z77mB-vk>

- 14) **Sport :**

<https://www.youtube.com/watch?v=sm1adm83Elk&list=PLbJ45pIU4JztROYzinAsI3OMLjkRSfLr&index=8>

15) **Arts** : Colorie le papillon de manière symétrique.

