

Correction mardi 19 mai

Français

Conjugaison

Recopie les phrases en conjuguant les verbes au futur.



Ces fleurs sont pour ma maman.

→ Ces fleurs seront pour ma maman.



Mon chien a un os à ronger.

→ Mon chien aura un os à ronger.



Nous sommes deux grands footballeurs.

→ Nous serons deux grands footballeurs.



A force de travailler, je suis fatigué.

→ A force de travailler, je serai fatigué.



J'ai un petit bateau à moteur.

→ J'aurai un petit bateau à moteur.



Pour le dessert, vous avez des crêpes.

→ Pour le dessert, vous aurez des crêpes.

Grammaire

Exercice : souligne le verbe en rouge et l'adverbe qui le modifie en vert.

Cet élève de CP lit couramment.


Bastien mange peu.

Il frappait nerveusement la table avec son stylo.

Quand il est fatigué, Romain conduit mal.

La neige a complètement fondu.

Orthographe

 Je vérifie que j'ai compris

1 Mets les groupes nominaux au pluriel. Entoure les changements qui ne s'entendent pas.
un journal local • une belle plume • un magnifique cadeau • un vieux hibou • un clou rouillé • un jeu dangereux • un pneu dégonflé • un vaisseau spatial • un portail bleu • un bal masqué

2 Recopie le texte et surligne toutes les marques du pluriel.

Les cerfs mangent de l'herbe, des écorces et des champignons. Ils se déplacent en groupe. Chaque année, ils perdent leurs bois. Chaque automne, ils brament pour appeler les femelles.

Exercice 1 : mets les groupes nominaux au pluriel. Entoure les changements qui ne s'entendent pas.

des journaux locaux - des belles plumes - des magnifiques cadeaux - des vieux hiboux - des clous rouillés - des jeux dangereux - des pneus dégonflés - des vaisseaux spatiaux - des portails bleus - des bals masqués

Exercice 2 : recopie le texte et surligne toutes les marques du pluriel.

Les cerfs mangent de l'herbe, des écorces et des champignons. Ils se déplacent en groupe. Chaque année, ils perdent leurs bois. Chaque automne, ils brament pour appeler les femelles.

Mathématiques

Calcul mental

Exercice 1 sans poser le calcul !

Marco a 12 000 euros. Il donne la moitié à son frère ?

Combien a eu le frère ? **Son frère a eu 6000 euros.**

José a ramassé 96 fraises dans son panier. Il en donne le tiers à sa maman.

Combien a-t-il donné de fraises ? **Il a donné 32 fraises.**

Exercice 2

Le quadruple de 2 est **.8..**

Le quadruple de 10 est **.40.**

Le quart de 40 est **.10.**

Le quadruple de 4 est **.16.**

Le quadruple de 25 est **.100**


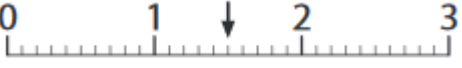

Le quart de 80 est **.20**

Le quadruple de 8 est **.32**

Le quart de 24 est **.....6**

Le quart de 100 est **25..**

Numération

Ligne graduée	$\frac{\dots}{10}$	$1 + \frac{\dots}{10}$	Nombre à virgule
	$\frac{29}{10}$	$2 + \frac{9}{10}$	2,9
	$\frac{15}{10}$	$1 + \frac{5}{10}$	1,5
	$\frac{47}{10}$	$4 + \frac{7}{10}$	4,7

Calcul posé

