

Travail à faire Mardi 14 avril

Tous les documents sont imprimables ou peuvent être remplis informatiquement.

Si votre enfant n'est pas du tout à l'aise avec un ordinateur, vous pouvez imprimer les documents. Les exercices sont à faire sur le cahier du jour

## **1-Dictée**

La dictée est à écouter en format audio et à écrire sur son cahier du jour.

Avant de corriger, les élèves trouvent le sujet en rouge et le verbe en vert. Puis ils accrochent les groupes nominaux au crayon de papier pour vérifier les accords sujet/verbe et les accords du groupe nominal (déterminant, nom, adjectifs). Ils vérifient aussi les homonymes (a, et, ont, son) s'il y en a.

## **2-Vocabulaire**

Nous allons travaillé cette semaine sur le mot MANGER.

A vous de faire des recherche pour remplir les pétales de la fleur donnée en pièce jointe. Au milieu, on écrit le mot MANGER.

Chaque pétale correspond à une classe ci-dessous

- l'éthymologie : les racines latine et grecque.
- le champ lexical : tous les mots qui se rapporte à voix (qui fond penser à voix)
- les mots de la même famille
- les synonymes (mots qui veulent dire la même chose)
- les expressions avec leur définition

## **3- Mathématiques**

CM2 :

1- Pose et calcule :

564x150 et 208:5

## 2- Résous le problème

À la séance de cinéma de 21 heures, le samedi 5 décembre, 256 billets ont été vendus. 27 places n'étaient pas occupées. Un billet coûte 8€. Combien y a-t-il de places dans le cinéma ?

Je cherche.....

Opérations

Phrase réponse

## 3-Calcul mental :

Rappel

Regarde la vidéo

<https://www.youtube.com/watch?v=flwL9uaEWNM>

Quand on calcule le tiers d'un nombre, on divise le nombre par 3 ou on cherche dans la table de 3 ( quand c'est possible) le chiffre que l'on multiplie à 3 pour avoir ce nombre

ex : le tiers de 12

$12:3=4$  ou  $3 \times 4=12$

Donc le tiers de 12 est 4

Essaie sur ton ardoise, trouve le tiers de :

27- 15 – 24 – 36 – 60 - 90

## 4-Géométrie

*Rappel de la leçon sur le cercle*

centre : point où l'on pique avec le compas

rayon : ouverture du compas

diamètre : segment qui sépare le cercle en deux et qui passe par le centre

Regarde ensuite la vidéo de la leçon sur le cercle

<https://www.youtube.com/watch?v=enZD7uO9ONQ>

1- Trace un cercle de centre  $O$  et de rayon  $5\text{ cm}$ .

2- Trace un cercle de diamètre  $[AB]=8\text{cm}$

3- Trace un segment de  $[CD]=8\text{cm}$ . Place le point  $M$ , le milieu de  $[CD]$ .

Sur le même dessin, trace un cercle de centre  $C$  et de rayon  $[CM]$ .

Sur le même dessin, trace un cercle de centre  $D$  et de rayon  $[DM]$ .

5-Le compte est bon

[https://www.logicieleducatif.fr/math/calcul/compte\\_est\\_bon\\_accueil.php](https://www.logicieleducatif.fr/math/calcul/compte_est_bon_accueil.php)

### *Écriture*

Répond sous la forme d'une lettre à Dori. Écris comment tu te sens en ce moment et raconte lui tes journées à la maison, tes activités, tes jeux, tes chamailleries avec tes frères ou tes sœurs. Écris au moins 5 phrases (avec une majuscule et un point).

### Lecture

1- lis le portrait chinois que tu as reçu et essaie de deviner qui l'a écrit. Souligne dans le texte ce qui t'as permis de savoir.

2-Lire chapitre 13 et trouver un titre au chapitre (à écrire en dessous des autres sur la même feuille de classeur)

## Géographie

Observe la carte 1 suivante.



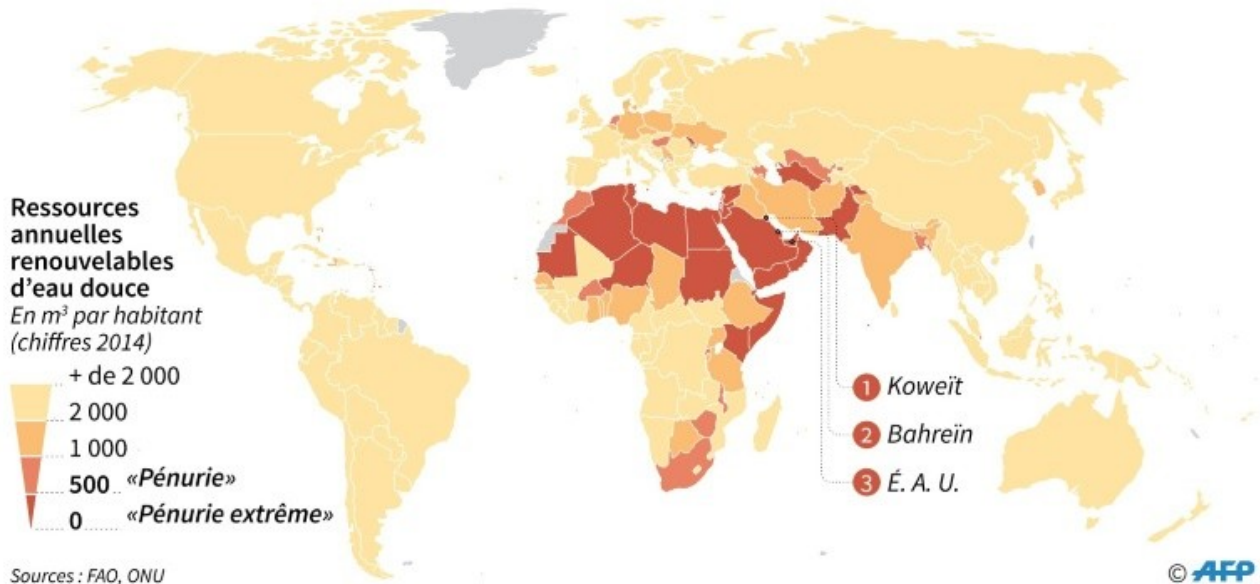
Sur quels continents y a-t-il le plus de personnes qui n'ont pas accès à l'eau potable ? Il y a deux réponses.

.....

## Carte n°2

### Les 45 pays en pénurie d'eau dans le monde

Selon les seuils définis par les Nations-Unies



Sur quel continent, y a-t-il une pénurie d'eau douce (non salée) ?

.....

Quel continent en pénurie d'eau potable n'apparaît pas sur cette carte ?

.....

A-t-on avis pourquoi sur ce continent, il y a de l'eau douce mais les gens n'y ont pas accès ?

.....



## Anglais

**Pour fêter le printemps, je vous laisse écouter la chanson du printemps in English, of course !**

[https://www.youtube.com/watch?v=\\_ZXdJ46IX0I](https://www.youtube.com/watch?v=_ZXdJ46IX0I)

Complète ensuite la fiche en anglais sur le printemps ci-joint.

## Correction

### 1-Dictée

Le retour du printemps

Les jours seront plus chauds et s'allongeront. Les bourgeons se gonfleront de sève. Ils grossiront tant que leurs écailles s'écarteront. Des petites feuilles, recouvertes de duvet et encore fripées, pointeront une tête humide. Les rameaux s'élanceront vers la lumière du soleil.

### **2-Vocabulaire**

Voir la correction de la fleur

### **3- Mathématiques**

CM2 :

1- Pose et calcule :

564x150 et 208:5

Vérifie à la calculatrice

2- Résous le problème

À la séance de cinéma de 21 heures, le samedi 5 décembre, 256 billets ont été vendus. 27 places n'étaient pas occupées. Une billet coûte 8€. Combien y a t'il de places dans le cinéma ?

Je cherche le nombre de places dans le cinéma

Il ne faut utiliser que 2 nombres dans l'énoncé : 256 billets et 27 places inoccupées.

Opérations :  $256+27=283$

Phrase réponse : il y a 283 places dans le cinéma

3-Calcul mental :

$$27- 15 - 24 - 36 - 60 - 90$$

Le tiers de 27 est 9 car  $3 \times 9 = 27$

Le tiers de 15 est 5 car  $3 \times 5 = 15$

Le tiers de 24 est 8 car  $3 \times 8 = 24$

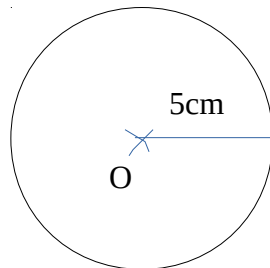
Le tiers de 36 est 3 car  $3 \times 12 = 36$

Le tiers de 60 est 20 car  $3 \times 20 = 60$

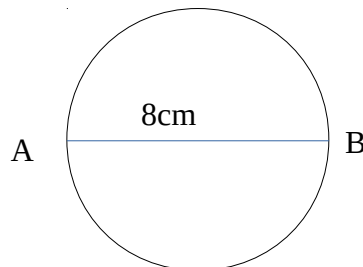
Le tiers de 90 est 30 car  $3 \times 30 = 90$

5-Géométrie

1- Trace un cercle de centre  $O$  et de rayon 5 cm.



2- Trace un cercle de diamètre  $[AB]=8\text{cm}$

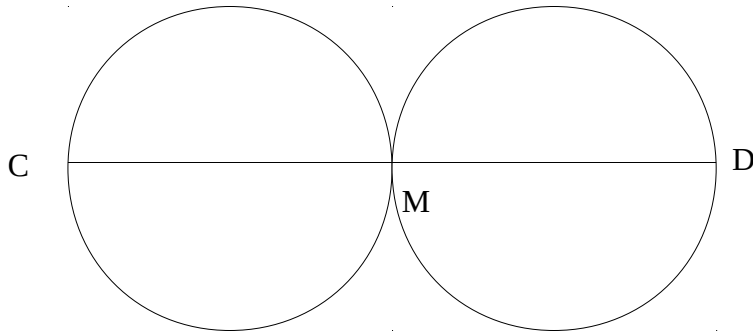


On écarte le compas de 4 cm

3-Trace un segment de  $[CD]=8\text{cm}$ . Place le point  $M$ , le milieu de  $[CD]$ .

Sur le même dessin, trace un cercle de centre  $C$  et de rayon  $[CM]$ .

Sur le même dessin, trace un cercle de centre  $D$  et de rayon  $[DM]$ .



### *Ecriture*

*Répond sous la forme d'une lettre à Dori. Ecris comment tu te sens en ce moment et raconte lui tes journées à la maison, tes activités, tes jeux, tes chamailleries avec tes frères ou tes sœurs. Ecris au moins 5 phrases (avec une majuscule et un point).*

### *Lecture*

*1- lis le portrait chinois que tu as reçu et essaie de deviner qui l'a écrit. Souligne dans le texte ce qui t'as permis de savoir.*

*2-Lire chapitre 13 et trouver un titre au chapitre (à écrire en dessous des autres sur la même feuille de classeur)*



## Géographie

Observe la carte 1 suivante.



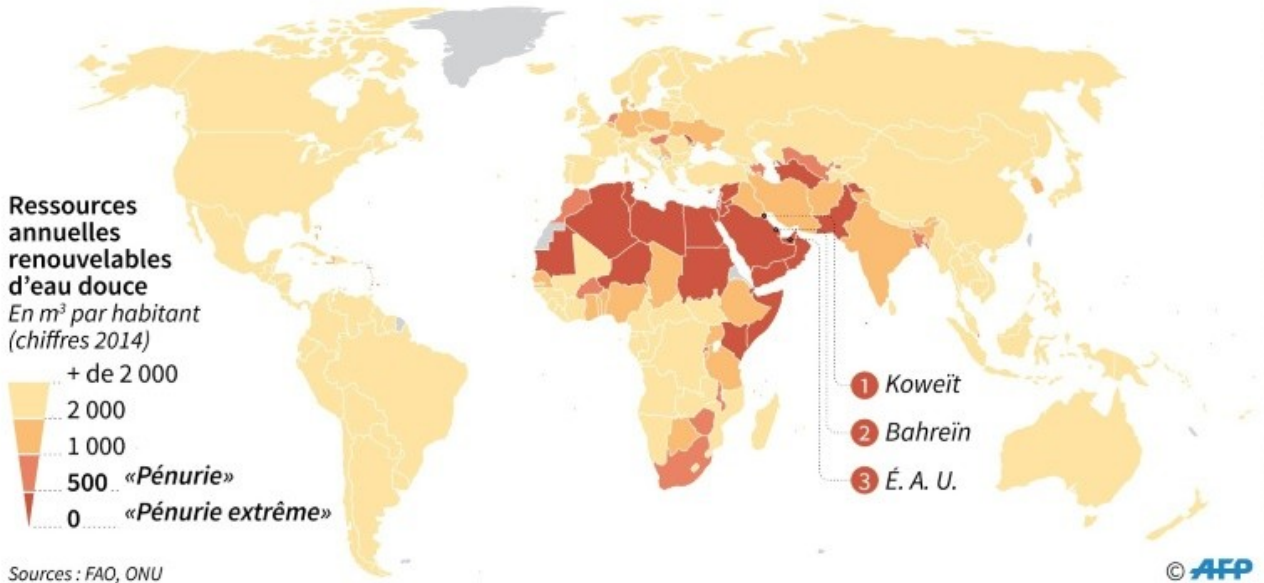
Sur quels continents y a-t-il le plus de personnes qui n'ont pas accès à l'eau potable ? Il y a deux réponses.

En Asie et en Afrique, beaucoup de personnes n'ont pas accès à l'eau potable.

## Carte n°2

### Les 45 pays en pénurie d'eau dans le monde

Selon les seuils définis par les Nations-Unies



Sur quel continent, y a-t-il une pénurie d'eau douce (non salée) ?

En Afrique, il y a pénurie d'eau douce à cause de la sécheresse.

Quel continent en pénurie d'eau potable n'apparaît pas sur cette carte ?

L'Asie n'apparaît pas.

A-t-on avis pourquoi sur ce continent, il y a de l'eau douce mais les gens n'y ont pas accès ?

Il pleut suffisamment mais les gens sont trop pauvres et il n'y a pas de station de pompage et d'usine de traitement de l'eau potable partout



## **Anglais**

**Pour fêter le printemps, je vous laisse écouter la chanson du printemps in English, of course !**

[https://www.youtube.com/watch?v=\\_ZXdJ46IX0I](https://www.youtube.com/watch?v=_ZXdJ46IX0I)

Complète ensuite la fiche en anglais sur le printemps ci-joint.