

Travail à faire Jeudi 26 mars

Tous les documents sont imprimables ou peuvent être remplis informatiquement.

Si votre enfant n'est pas du tout à l'aise avec un ordinateur, vous pouvez imprimer les documents. Les exercices sont à faire sur le cahier du jour

1- Orthographe

Corriger la phrase ci-dessous en rouge (il y a 8 erreurs)

Pendant cette période de confinement, les enfants restent chez eux pour ne pas attraper le coronavirus.

2-Plan de travail (30 minutes)

Continuer sa fiche de plan de travail. Si celle-ci est terminée, en choisir une autre. Toutes les fiches de plan de travail sont mises en pièce jointe.

3- Mathématiques

CM1 :

1- Pose et calcule :

109X431 et 421:8

2- Résous le problème

Jean achète 10 stylos il paie 30€. Combien paie-t-il 5 stylos ? (et pour les courageux 15 stylos ?)

Je cherche

Opération :

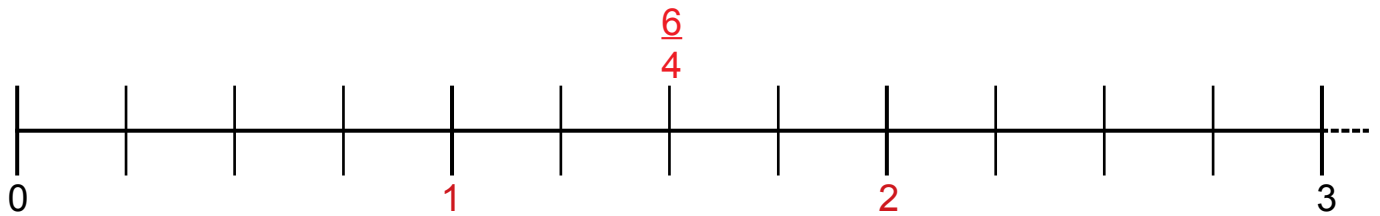
Phrase réponse :

3-Place les fractions sur la bande graduée

Rappel de la vidéo

<https://www.reseau-canope.fr/lesfondamentaux/video/les-fractions-sur-la-droite-graduee.html>

• $\frac{3}{4}$; $\frac{5}{4}$; $\frac{10}{4}$; $\frac{12}{4}$



Observe ensuite $\frac{6}{4}$ est entre 1 et 2 sur la bande, on écrit $1 < \frac{6}{4} < 2$, on dit qu'on encadre la fraction.

Tu peux regarder la vidéo suivante pour t'aider

<https://www.reseau-canope.fr/lesfondamentaux/video/encadrer-une-fraction-par-deux-nombres-entiers-consecutifs.html>

4-Essaie d'encadrer les fractions suivantes, tu peut t'aider de la bande.

..... < $\frac{3}{4}$ <

..... < $\frac{5}{4}$ <

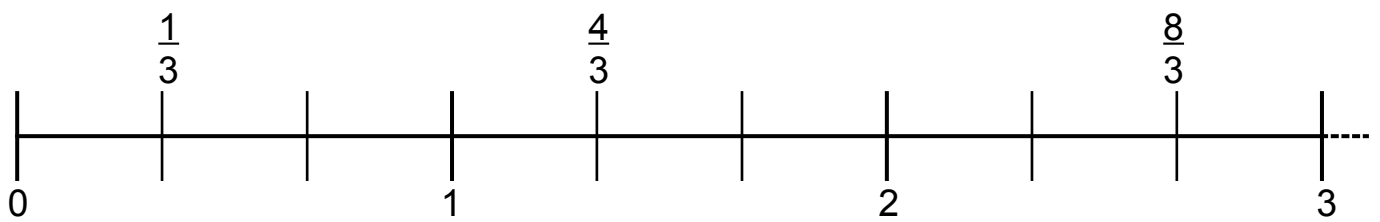
..... < $\frac{10}{4}$ <

..... < $\frac{13}{4}$ <

5-Ecrire sur une petite fiche de classeur la leçon suivante

Placer une fraction sur une bande graduée et encadrer des fractions

On peut placer une fraction sur une bande graduée.



Grâce à la bande on peut encadrer les fractions : $0 < \frac{1}{3} < 1$ $1 < \frac{4}{3} < 2$

On peut aussi encadrer une fraction sans bande.

Ex : $3 \times 2 < 8 < 3 \times 3$ donc $2 < \frac{8}{3} < 3$

6- Nous avons travaillé sur les triangles. A toi de trouver chez toi un objet, un endroit qui a la forme d'un triangle. Prends une photo, envoie la moi et dis moi de quel triangle il s'agit.

Moi j'ai trouvé chez moi un triangle isocèle



7-Calcul mental :

Entraînement sur le site calculatrice : <https://calculatrice.ac-lille.fr/spip.php?rubrique2>

Entrer son nom et choisir son niveau :

S'entraîner dans les rubriques :

- les tables de multiplication
- la somme de plusieurs nombres
- multiplier par 10, 20, ...
- double/moitié

Écriture

De nombreux messages de soutien ou de remerciement sont postés sur les réseaux sociaux pour le personnel soignant (infirmières, médecins, aides soignants ...) qui prennent soin des gens malades ou fragiles pendant cette épidémie.

A vous décrire un message pour dire de soutien ou de remerciement pour tous les gens qui travaillent dans le milieu médical. Ce message doit contenir au moins une phrase avec une majuscule et un point.

Merci de....

Merci pour....

Vous devez ensuite m'envoyer cette phrase ou ce texte par mail pour que je puisse les mettre sur le site pour tous les parents soignants de l'école (et les autres aussi!)

Lecture

Lecture : les substituts

1-Lis ce texte.

La marmotte est un mammifère. Tout l'été, cette peluche vivante, que l'on peut admirer en altitude, profite de la saison chaude. Elle s'amuse, batifole dans les pâturages, se repose sur les rochers et fait la belle pour les randonneurs. Toutefois, la petite prévoyante prépare l'hiver en se gavant d'herbes et de baies, si bien que notre chère amie se transforme en petite boule. Dès novembre, le petit animal hiberne dans ses terriers souterrains. Son corps vit au ralenti, passant d'une température de 36° à 5°. Au printemps, les premiers signes de réveil apparaissent et le petit quadrupède reprend une vie normale.

Souligne tous les groupes de mots qui désignent la marmotte.

2-Afin de continuer de lire les livres pour le prix Renaudot des benjamins, l'éditeur du dernier livre « la révolte des animaux moches » nous a mis à disposition la version numérique (jointe à ce mail)

Chaque jour, vous devrez lire un chapitre donc aujourd'hui jeudi 26 mars, vous devez lire le chapitre 1 et donner un titre au chapitre sur une grande feuille de classeur (vous écrirez tous les jours le titre du chapitre lu en dessous du précédent sur cette feuille).

Je rappelle : un titre est une phrase très courte qui résume l'information principale de l'histoire (pas les détails)

CORRECTION

1- Orthographe

Pendant période confinement enfants restent eux
Pendant cette période de confinement, les enfants restent chez eux
pour ne pas attraper le coronavirus.
attraper virus

2-Plan de travail (30 minutes)

Continuer sa fiche de plan de travail. Si celle-ci est terminée, en choisir une autre.
Toutes les fiches de plan de travail sont mis en pièce jointe.

3- Mathématiques

CM1 :

1- Pose et calcule :

109X431 et 421:8
Vérifie à la calculatrice

2- Résous le problème

Jean achète 10 stylos il paie 30€. Combien paie-t-il 5 stylos ? (et pour les courageux 15 stylos ?)

Je cherche le prix des stylos

Opération :

10 stylos=30€

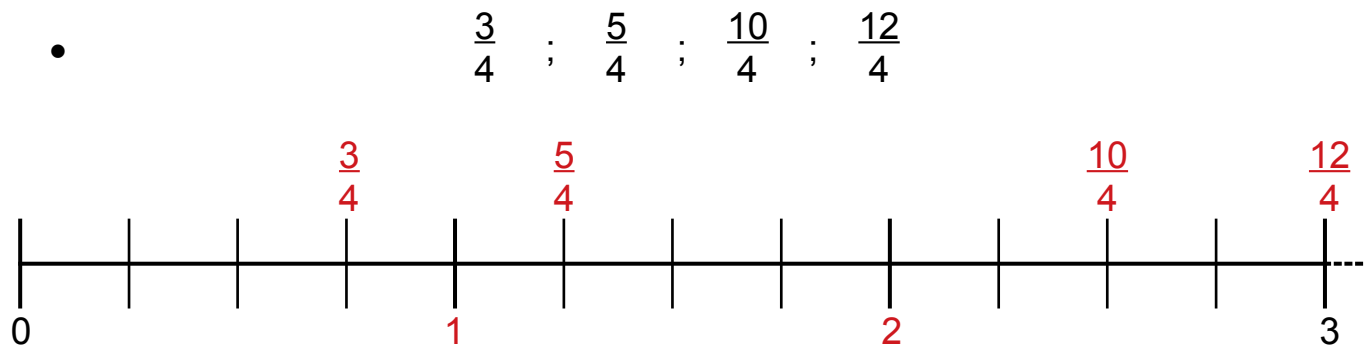
5 stylos = la moitié de 30=15€

15 stylos = 30+15=45€

3-Place les fractions sur la bande graduée

Rappel de la vidéo

<https://www.reseau-canope.fr/lesfondamentaux/video/les-fractions-sur-la-droite-graduee.html>



Observe ensuite $\frac{6}{4}$ est entre 1 et 2 sur la bande, on écrit $1 < \frac{6}{4} < 2$, on dit qu'on encadre la fraction.

Tu peux regarder la vidéo suivante pour t'aider

<https://www.reseau-canope.fr/lesfondamentaux/video/encadrer-une-fraction-par-deux-nombres-entiers-consecutifs.html>

4-Essaie d'encadrer les fractions suivantes, tu peut t'aider de la bande.

$$0 < \frac{3}{4} < 1$$

$$1 < \frac{5}{4} < 2$$

$$2 < \frac{10}{4} < 3$$

$$3 < \frac{13}{4} < 4$$

Lecture : les substituts

1-Lis ce texte.

La marmotte est un mammifère. Tout l'été, cette peluche vivante, que l'on peut admirer en altitude, profite de la saison chaude. Elle s'amuse, batifole dans les pâturages, se repose sur les rochers et fait la belle pour les randonneurs. Toutefois, la petite prévoyante prépare l'hiver en se gavant d'herbes et de baies, si bien que notre chère amie se transforme en petite boule. Dès novembre, le petit animal hiberne dans ses terriers souterrains. Son corps vit au ralenti, passant d'une température de 36° à 5°. Au printemps, les premiers signes de réveil apparaissent et le petit quadrupède reprend une vie normale.

Souligne tous les groupes de mots qui désignent la marmotte.