


Coder un déplacement

Four empty boxes for writing answers.

Découvrons ensemble

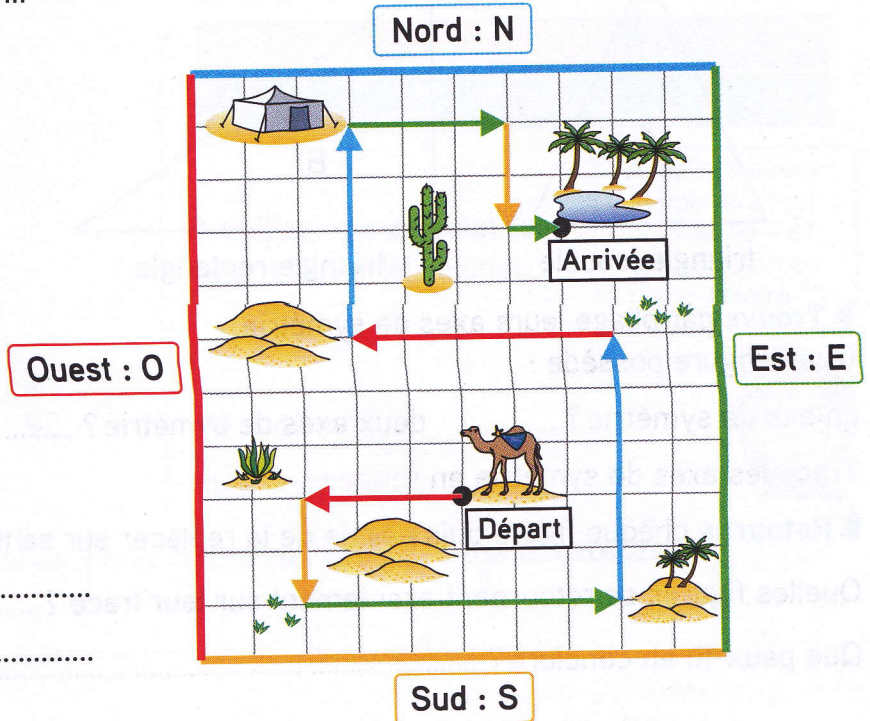
Pour faire boire son chameau, Ahmed observe la carte qui le conduira jusqu'à l'oasis. Il code son parcours pour s'en souvenir en écrivant : O3 ; S2 ; E6 ; ...

Que signifient O3 ? S2 ? E6 ?



Termine le codage de son parcours jusqu'à l'oasis.

O3 ; S2 ; E6 ;



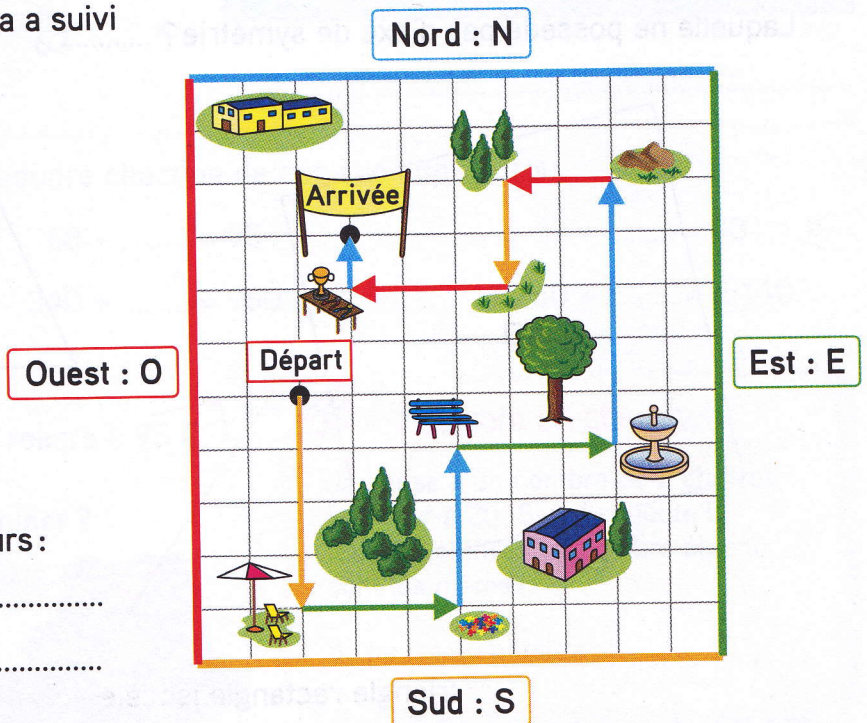
Je m'entraîne

Dans une course d'orientation, Léa a suivi le trajet fléché sur le quadrillage.



Termine le codage de son parcours :

S4 ; E3 ;



Compétence : Coder un déplacement sur les lignes d'un quadrillage.

Calcul mental : Comparer des nombres de 4 chiffres. L'enseignant dit : « 2 128 et 2 300 » ; l'élève écrit le plus grand : 2 300.