

- Comparer, ranger les nombres jusqu'à 20
- Introduction des signes $>$ et $<$

Nom :

Date :

Exercices

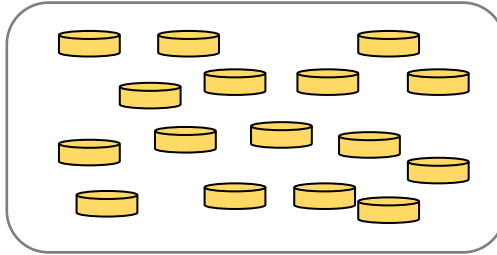
Comparer et ranger les nombres jusqu'à 20

1

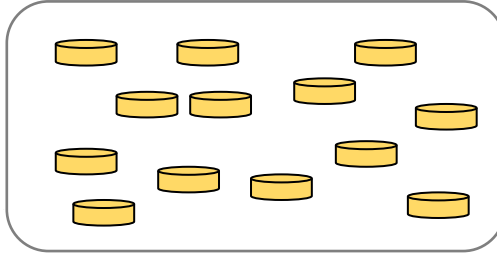
Julie et Thomas comptent les jetons qu'ils ont gagnés.



Julie



Thomas



La pointe montre le plus petit des deux nombres.

$$16 > 13 \quad 13 < 16$$

Qui a gagné 13 jetons ?

Qui a gagné 16 jetons ?

Qui en a gagné le plus ?

16 est **plus grand** que 13

$$16 > 13$$

13 est **plus petit** que 16

$$13 < 16$$

2

Colorie le plus petit des deux nombres.

15	14	11	16
17	15	12	14

3

Ecris le signe $<$ ou $>$

18	.	12	12	.	19
15	.	11	10	.	12

4

Range les nombres du plus petit au plus grand.

18	15	13	19	11
----	----	----	----	----	-----	-----	-----	-----	-----

Nom :

Date :

- Comparer, ranger les nombres jusqu'à 20
- Introduction des signes $>$ et $<$

Corrigé

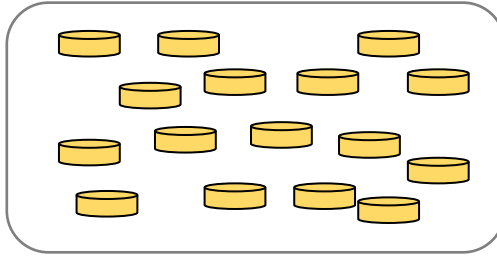
Comparer et ranger les nombres jusqu'à 20

1

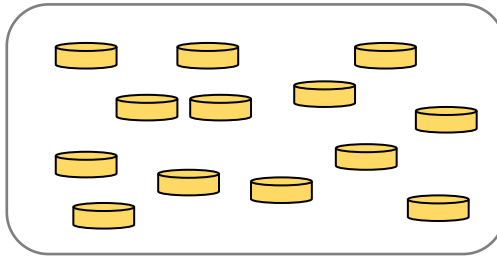
Julie et Thomas comptent les jetons qu'ils ont gagnés.



Julie



Thomas



La pointe montre le plus petit des deux nombres.

$$16 > 13 \quad 13 < 16$$

Qui a gagné 13 jetons ? *Thomas*

Qui a gagné 16 jetons ? *Julie*

Qui en a gagné le plus ? *C'est Julie.*

16 est *plus grand* que 13

$$16 > 13$$

13 est *plus petit* que 16

$$13 < 16$$

2

Colorie le plus petit des deux nombres.

15	14	11	16
17	15	12	14

3

Ecris le signe $<$ ou $>$

18	$>$	12	12	$<$	19
15	$>$	11	10	$<$	12

4

Range les nombres du plus petit au plus grand.

18	15	13	19	11	11	13	15	18	19
----	----	----	----	----	----	----	----	----	----