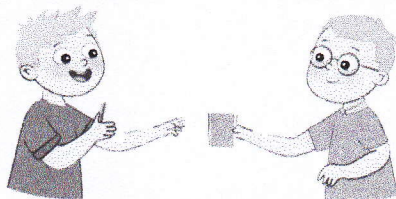


# Problèmes : Situations additives ou soustractives (4)

1



Theo a des images.



Son frère lui donne  
20 images.



Theo a mainte  
60 image

Combien d'images Theo avait-il au début ?

Écris l'opération et calcule.


$60 - 20 = 40$

Imagine que Theo rende les 20 images à son frère.


Complète la phrase réponse.

Au début, Theo avait 40 images.

2



Theo a des images.



Theo donne  
10 images à Léa.



Theo a mainte  
40 image

Combien d'images Theo avait-il au début ?


Écris l'opération et calcule.

$40 + 10 = 50$


Complète la phrase réponse.

Au début, Theo avait 50 images.

3



Theo a des billes.



Theo donne  
30 billes à Léa.



Theo a mainte  
20 billes

Combien de billes Theo avait-il au début ?

Écris l'opération et calcule.

$20 + 30 = 50$

Complète la phrase réponse.

Au début, Theo avait 50 billes.

# Correction "addition"

①

	c	d	u
	1	4	3
+	2	1	2
+			6
<hr/>			
	3	6	1

$$143 + 212 + 6 = \underline{361}$$

②

	1	2	8
+	4	3	1
<hr/>			
	5	5	9

$$128 + 431 = \underline{559}$$

③

	6	5	4
+		9	8
<hr/>			
	7	5	2

$$654 + 98 = \underline{752}$$

⚠ Il faut s'assurer que les enfants ont rangé les nombres en colonne correctement.