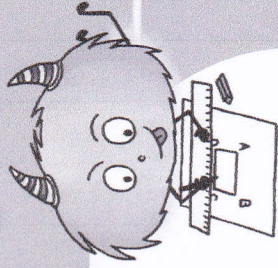


S'exercer

Mes.2 : Je sais mesurer un segment



A — B

AB = 5 cm 2 mm

C — D

CD = 6 cm 4 mm

E — F


EF = 4 cm 2 mm

G — H

GH = 7 cm 2 mm

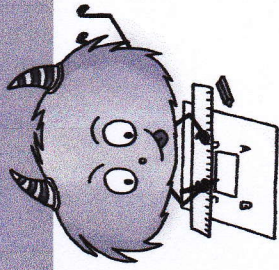
i — J

IJ = 5 cm 9 mm



Mes.2 : Je sais mesurer un segment

S'exercer



Compléter :

$$AB = \underline{14\text{cm } 5\text{mm}}$$

$$BC = \underline{14\text{cm } 5\text{mm}}$$

$$CE = \underline{8\text{cm } 5\text{mm}}$$

$$BO = \underline{8\text{cm } 1\text{mm}}$$

$$DO = \underline{8\text{cm } 1\text{mm}}$$

$$BD = \underline{16\text{cm } 3\text{mm}}$$

$$AO = \underline{8\text{cm } 1\text{mm}}$$

$$CO = \underline{8\text{cm } 1\text{mm}}$$

$$AF = \underline{8\text{cm } 5\text{mm}}$$

$$FC = \underline{8\text{cm } 5\text{mm}}$$



⚠️ Résultat de l'exercice de mesure de la longueur de deux segments !
1 à 2 mm de différence !
Pour s'entraîner !
aux mesures !

