



Construire la droite graduée




Découvrons ensemble

Observe et complète.

La droite graduée commence par zéro.

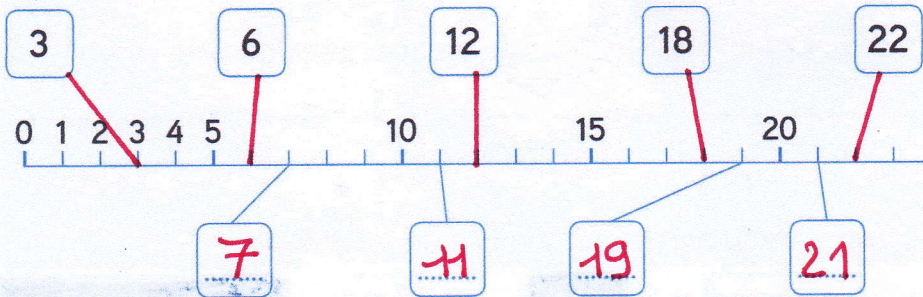


Sur la droite graduée, les nombres sont au-dessus des graduations. Dans la bande numérique, ils sont dans des cases.



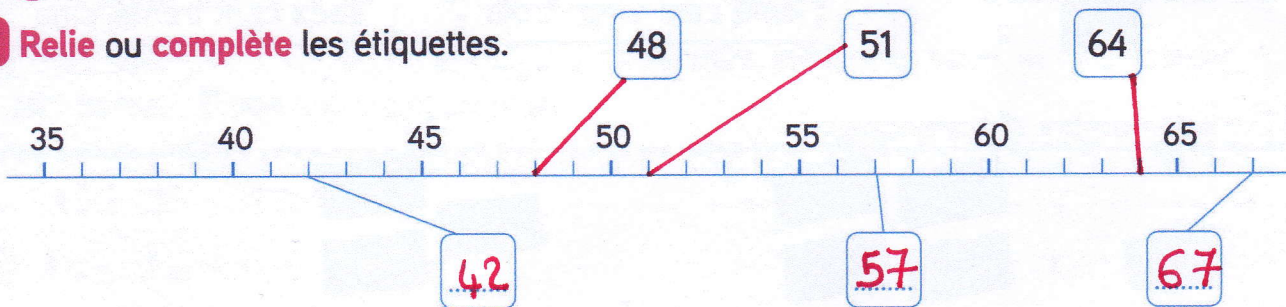
Sur la droite graduée, les nombres sont rangés du plus petit au plus grand.

Relie les étiquettes à la droite graduée ou complète-les.



Je m'entraîne

1 Relie ou complète les étiquettes.




Range les 6 nombres des étiquettes du plus petit au plus grand.

$42 < 48 < 51 < 57 < 64 < 67$


2 Problème

- Entoure: - en rouge la graduation 69 ;
- en bleu la graduation $69 + 10$;
- en vert la graduation $69 - 10$.



Le coin du chercheur

Barre un bâtonnet pour que l'égalité soit exacte.



Compétence : Passer de la bande numérique à la droite graduée.

Calcul mental : Dictée de nombres (nombres < 100). L'enseignant dit : « 86 » ; l'élève écrit 86.