




Découvrons ensemble

Combien va payer chaque enfant ?

Observe et complète.



..... =



Théo va payer €.

..... =

Léa va payer €.

Je m'entraîne

1 Combien va payer Mélissa ? Combien va payer Gabriel ?



..... =

Mélissa va payer €.

..... =

Gabriel va payer €.

2 Problème : Emma a acheté cette plante. Maintenant, il lui reste 30 € dans son porte-monnaie. Combien d'argent avait-elle avant son achat ?

..... =

Elle avait € avant son achat.



Compétence : Extraire les données d'un dessin pour résoudre un problème.

Calcul mental : Tables d'addition. L'enseignant dit : « 8 + 9 » ; l'élève écrit 17.

Compétence : Extraire des données d'un dessin pour résoudre un problème.

Prénom


Date

À la papeterie



STYLO PLUME

10 €



CAHIER

5 €



GOMME

2 €



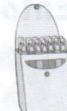
TROUSSE

4 €



BOÎTE DE PEINTURE

12 €



POCHETTE DE FEUTRES

8 €



POT DE COLLE

3 €

1 Léo achète 1 cahier et 1 pochette de feutres. Combien doit-il payer ?

..... =


Léo doit payer €.



2 Sofia achète 1 stylo plume, 1 trousse et 1 pot de colle. Combien doit-elle payer ?

..... =


Sofia doit payer €.



3 Louise achète 1 boîte de peintures et 2 cahiers. Combien doit-elle payer ?

..... =

Louise doit payer €.



4 Complète le ticket de caisse de Benjamin en précisant le nom et le prix de chaque article.

.....	4 €
Pochette de feutres €
.....	2 €
TOTAL €