

Petits problèmes du jour

Pour chaque problème, tu peux faire un dessin, mais tu dois écrire l'opération et compléter la phrase réponse.


Agit-il d'une addition ou d'une soustraction ?

Tu peux t'aider de tes leçons 1 ou 2 sur les problèmes dans ton cahier de leçons de maths.

- 1** Une classe de CE1 compte 12 garçons et 15 filles.
Combien d'élèves sont inscrits dans cette classe ?

..... =


..... élèves sont inscrits dans cette classe.



- 2** Un cours double CP/CE1 compte 25 élèves.
17 élèves sont inscrits en CP.
Combien d'élèves sont inscrits en CE1 ?

..... =


..... élèves sont inscrits en CE1.



- 3** Une boîte de gâteaux contient 4 éclairs au chocolat,
6 tartes aux fruits et 4 choux à la crème.
Combien de gâteaux la boîte contient-elle ?

..... =

La boîte contient gâteaux.



- 4** Un paquet de 50 bonbons contient 17 bonbons parfumés à la fraise,
15 au citron, les autres sont des caramels.
Combien de bonbons sont parfumés aux fruits ?

..... =

..... bonbons sont parfumés aux fruits.

Combien de caramels le paquet contient-il ?

..... =

Le paquet contient caramels.

