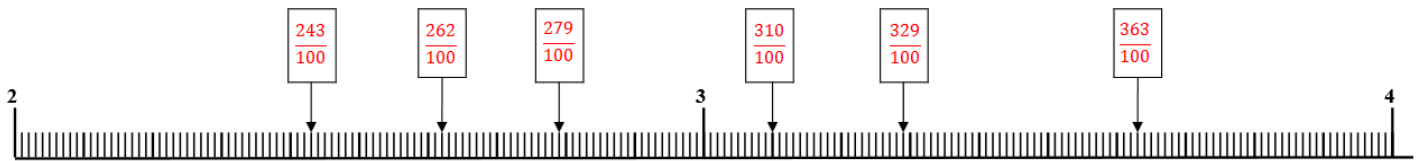
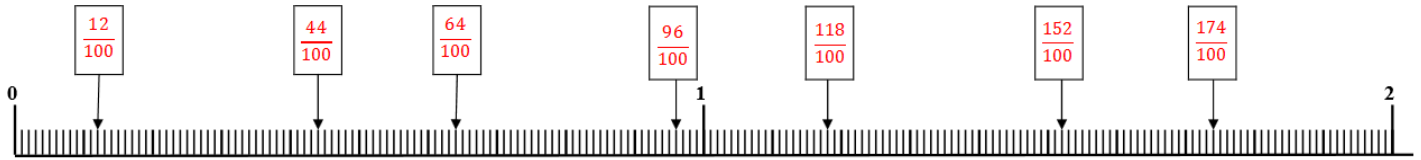


Fractions décimales et graduations

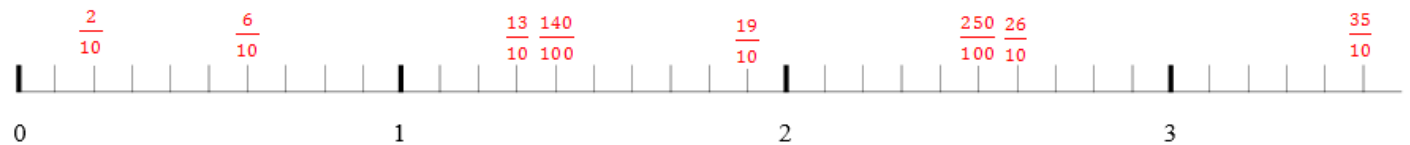
Correction

1- Pour chaque droite graduée, trouve la valeur d'une graduation.

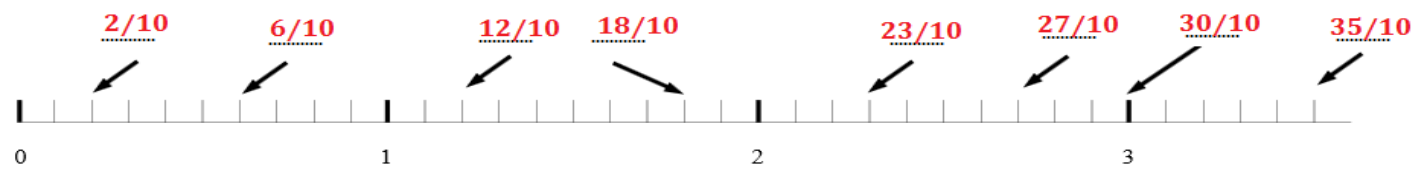


2- Place les points suivants sur la droite graduée ci-dessous.

$\frac{2}{10}$ $\frac{6}{10}$ $\frac{13}{10}$ $\frac{19}{10}$ $\frac{26}{10}$ $\frac{35}{10}$ $\frac{140}{100}$ $\frac{250}{100}$



3- Quelle est la fraction correspondante aux points indiqués sur la droite graduée.



4- Place les fractions sur la droite.

