

Exercice NC10 :

Dans la classe de CE2, il y a 14 garçons et 12 filles.

Combien y-a-t-il d'élèves dans cette classe ?



18

Réponse : Dans cette classe, il y a élèves.

Exercice NC11 :

Lucas a 8 ans. Il a 2 ans de plus que Tristan.

Qui est le plus âgé ?

Réponse : est l'enfant le plus âgé.

Quel est l'âge de Tristan ? Tu peux faire un dessin pour t'aider.



19


20

Réponse : Tristan a ans.

Exercice NC12 :

Le matin en arrivant à l'école, Arthur a 5 billes. Le soir, il rentre chez lui avec 15 billes.

Combien en a-t-il gagné pendant la journée ? Tu peux faire un dessin pour t'aider.



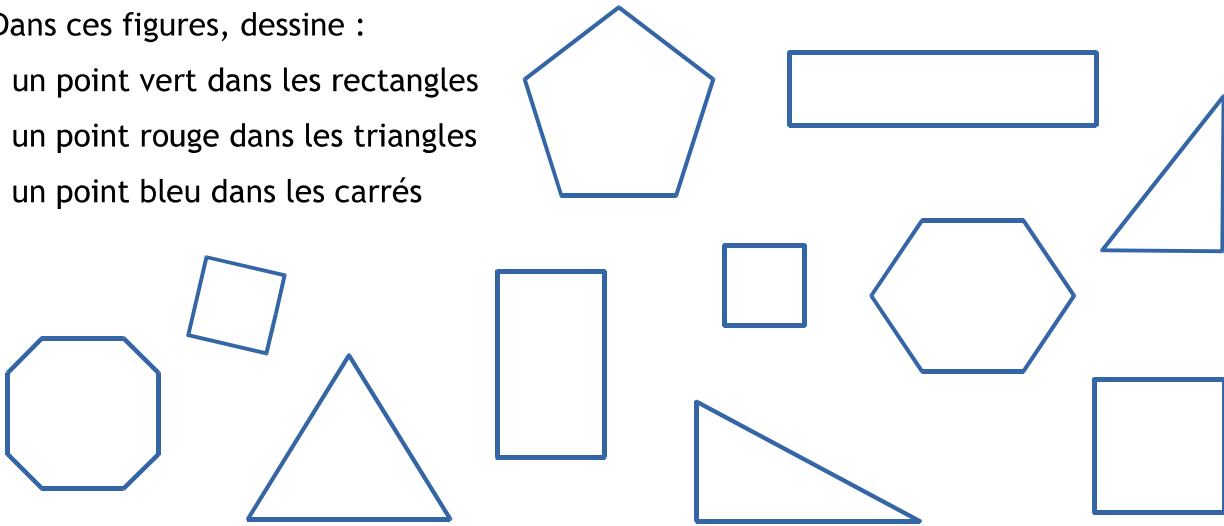
21

Réponse : Arthur a gagné billes.

Exercice G1 :

Dans ces figures, dessine :

- un point vert dans les rectangles
- un point rouge dans les triangles
- un point bleu dans les carrés



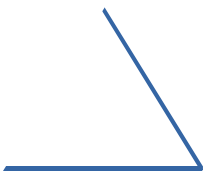
- 22
- 23
- 24

Exercice G2 :

Complète chaque forme géométrique et écris son nom.



.....



.....




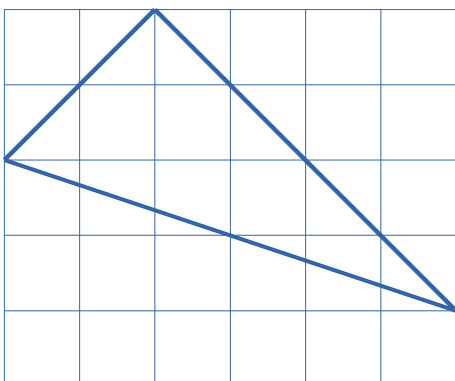
.....



- 25
- 26

Exercice G3 :

Regarde la figure qui est tracée. Tu dois la reproduire sur le quadrillage à côté en utilisant ta règle.



- 27