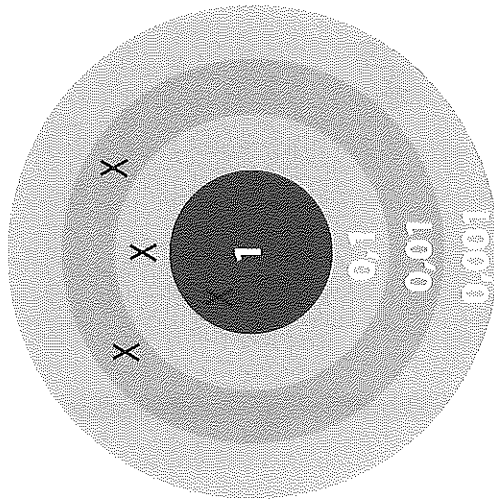


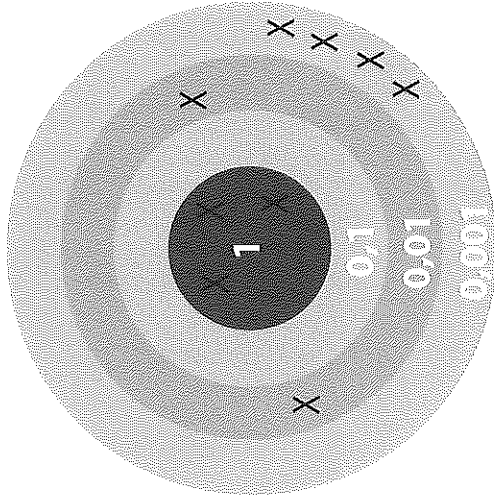
DEVOIR 1



Écris le nombre désigné par la cible sous la forme d'une fraction décimale et d'un nombre décimal.

.....

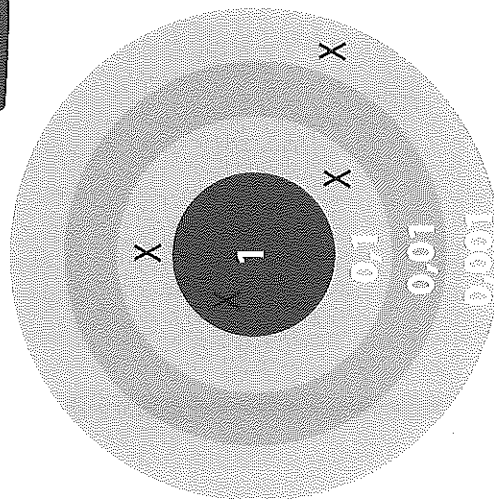
DEVOIR 3



Écris le nombre désigné par la cible sous la forme d'une fraction décimale et d'un nombre décimal.

.....

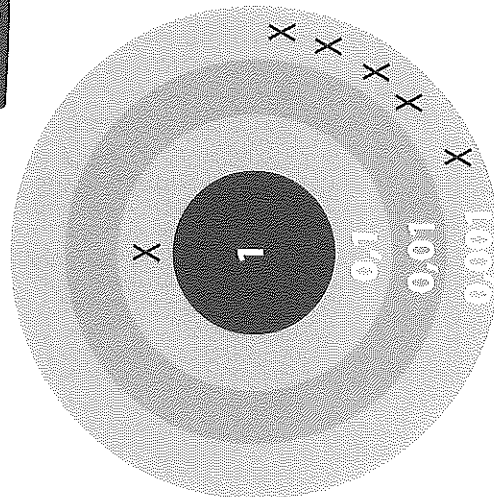
DEVOIR 2



Écris le nombre désigné par la cible sous la forme d'une fraction décimale et d'un nombre décimal.

.....

DEVOIR 4



Écris le nombre désigné par la cible sous la forme d'une fraction décimale et d'un nombre décimal.

.....