


Résoudre des problèmes de comparaisons

ALCUL MENTAL • Énoncer des additions
avec l'ajout de 5 unités.


Pour résoudre les problèmes de cette page, commence par compléter le schéma. Cela t'aidera à trouver le calcul à effectuer.




Le requin tigre est âgé de 4 ans. La murène a 2 ans de plus que le requin. Quel est l'âge de la murène ?




L'hippocampe bleu a donné naissance à 28 petits et l'hippocampe jaune à 17 petits. Combien d'hippocampes bleus de plus que d'hippocampes jaunes sont-ils nés ?



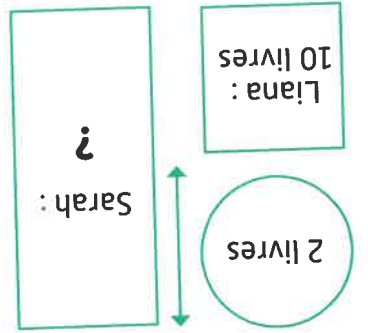
Louis pèse 36 kg. Il pèse 4 kg de moins qu'Anaë. Combien de kilogrammes pèse Anaë ?



Mei mesure 1 m 30 cm. Elle mesure 15 cm de plus que Zélie. Combien de centimètres mesure Zélie ?



Nino a réalisé le schéma suivant pour trouver la solution d'un problème de mathématiques. **Observe-le bien et écris l'énoncé du problème que Nino est en train de résoudre.**



.....

.....

.....

.....

.....