

Le nombre 1 000

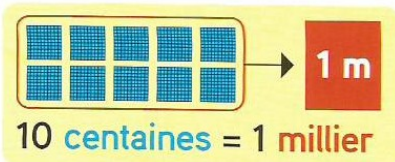
Découvrons ensemble

Observe, recopie et complète.

	d	u
9 →		9
9 + 1 →	1	0
9 + 1 =	

	c	d	u
99 →		9	9
99 + 1 →	1	0	0
99 + 1 =		

	m	c	d	u
999 →		9	9	9
999 + 1 →
999 + 1 =			



1 000 c'est m

1 000 c'est c

1 000 c'est d

La colonne m est la colonne des milliers.



Recopie et complète les calculs de Théo.

$999 + \dots = 1\ 000$

$990 + \dots = 1\ 000$

$900 + \dots = 1\ 000$



Aide Léa à retrouver les étiquettes du nombre 1 000. Recopie-les.

$990 + 10$

$500 + 500$

$800 + 200$

$900 + 10$



Je m'entraîne

1 Recopie les étiquettes du nombre 1 000.

a $500 + 500$

$100 + 900$

$800 + 100$

$700 + 300$

b $900 + 10$

$990 + 10$

$950 + 50$

$900 + 90$

2 Recopie et complète les égalités.

a $800 + \dots = 1\ 000$ $600 + \dots = 1\ 000$

$100 + \dots = 1\ 000$ $400 + \dots = 1\ 000$

b $950 + \dots = 1\ 000$

$980 + \dots = 1\ 000$

$995 + \dots = 1\ 000$

$999 + \dots = 1\ 000$

3 Problème

Aïchata joue aux cartes. Elle doit donner 1 000 points à la banque. Elle n'a que des cartes de 100 points. Combien de cartes de 100 points doit-elle donner ?

4 Problème

Rodrigo veut réserver ce voyage. Chaque mois, il économise 200 €. Au bout de combien de mois pourra-t-il partir ?

1 000 € la semaine en Guadeloupe !!!!



Le coin du chercheur

Mathix pense à deux nombres qui se suivent. Il les additionne et trouve 43.

Quels sont ces deux nombres ?



LES OCÉANS ET LES CONTINENTS

A Qu'y a-t-il sur notre planète?



- 1 Que vois-tu sur cette photographie?
- 2 As-tu déjà vu la mer ou l'océan? Comment était-ce?
- 3 Qu'y a-t-il de l'autre côté de l'océan? Pourquoi ne le voit-on pas?

La plus grande partie de notre planète est occupée par les océans et les mers : l'océan Atlantique, la mer Méditerranée, la Manche et bien d'autres.

B Comment les océans s'appellent-ils?

Les océans




- 4 Comment appelle-t-on cette représentation de la Terre?
- 5 Nomme les cinq océans présents sur la Terre.
- 6 Situe le lieu où tu habites. Quel est l'océan le plus proche de chez toi?
- 7 Pourquoi le nom de l'océan Pacifique est-il écrit deux fois?
- 8 Qu'y a-t-il à l'est de l'océan Pacifique?

Notre planète compte cinq océans :

- l'océan Pacifique
- l'océan Atlantique
- l'océan Indien
- l'océan glacial Arctique
- l'océan glacial Antarctique.

C

Qu'est-ce qu'un continent?



- 9 Dis ce que tu vois dans cet océan.
- 10 Cet océan a-t-il un fond?
- 11 Comment appelle-t-on les parties de terre qui émergent de l'océan?

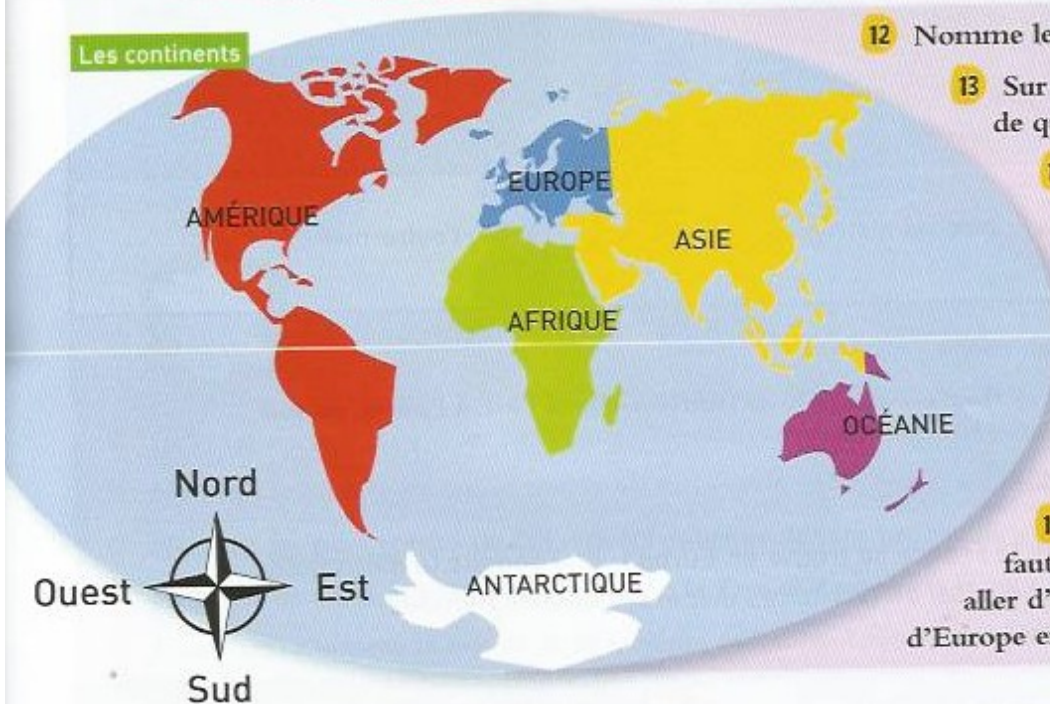
émerger : sortir de l'eau , dépasser de l'eau

Le fond de l'océan monte et descend. Par endroits, il émerge et forme une île (une petite terre) ou un continent (une énorme masse de terre).

D

Comment les continents s'appellent-ils?

Les continents



- 12 Nomme les six continents.
- 13 Sur quel continent ou près de quel continent vis-tu?
- 14 Quel continent se trouve au sud de l'Europe? à l'ouest de l'Europe? à l'est de l'Europe?
- 15 Quel continent se trouve à l'ouest de l'Amérique? à l'est de l'Asie?
- 16 Quel océan faut-il traverser pour aller d'Europe en Amérique? d'Europe en Antarctique?