

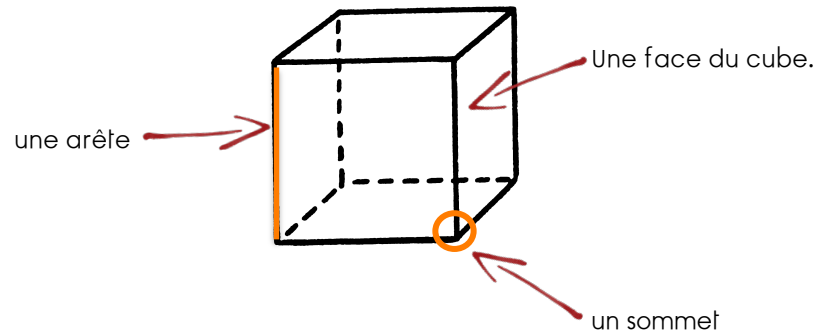
Les solides (1)

Le cube est un solide.



Un cube a : - 6 faces.

Toutes ses faces sont des carrés.

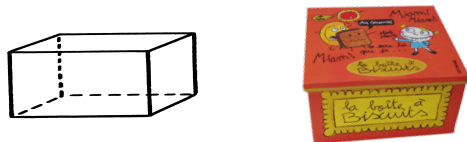


Le pavé droit est un solide.


Il a 6 faces et chaque face est un rectangle .



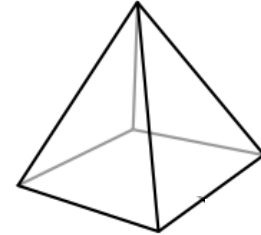
ou il a 4 faces rectangulaires et 2 faces carrées .



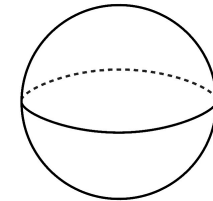
Les solides (2)



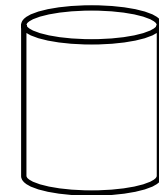
Une pyramide.



Une boule



Un cylindre



Un cône

