



lundi mardi mercredi jeudi vendredi samedi dimanche



/ /

**1** Colorie les nombres identiques de la même couleur :



soixante-trois

soixante-quatorze

soixante et onze

soixante-treize

soixante-dix-huit

soixante-quatre

74

73

78

63

68

64

71

$60 + 18$

$60 + 11$

$60 + 3$

$60 + 1$

$60 + 4$

$60 + 13$

$60 + 14$

**2** Complète ces additions.



$60 + 16 = 76$

$70 + 6 = 76$



$60 + 14 = \dots$

$70 + 4 = \dots$

$60 + 12 = \dots$

$70 + 2 = \dots$

$60 + 11 = \dots$

$70 + 1 = \dots$

$60 + 18 = \dots$

$70 + 8 = \dots$

$60 + 15 = \dots$

$70 + 5 = \dots$

**3** Relie ce qui va ensemble.



soixante-treize .

soixante-quinze .

soixante-seize .

soixante-dix-huit .

soixante-douze .



.  $60 + 15$

.  $60 + 18$

.  $60 + 13$

.  $60 + 12$

.  $60 + 16$



$60 + 10$  .

$60 + 15$  .

$60 + 14$  .

$60 + 13$  .

$60 + 18$  .



. 74

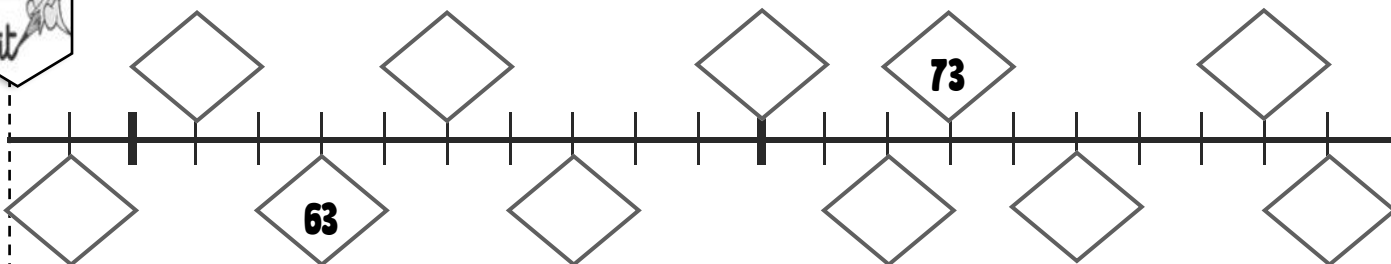
. 70

. 78

. 75

. 73

**4** Écris le nombre qui convient dans les cases de la bande numérique.





lundi mardi mercredi jeudi vendredi samedi dimanche



/

/

**1** Complète chaque case en suivant ce que t'indique la flèche.

27  $+10$   $+1$   $+10$   $+1$   $+10$   $+1$

18  $+1$   $+1$   $+1$   $+10$   $+10$

34  $+1$   $+10$   $+10$   $+10$   $+1$

**2** Complète en comptant de 2 en 2



32 34 36    44

25 27 29

**3** Écris les nombres à leur place. 51 40 68 47 29

24   42   59

**4** Colorie de la même couleur les cases qui représentent le même nombre

rouge 72    jaune 62    bleu 65    vert 75    gris 70

$52 + 10$	$60 + 15$	$60 + 10$	$60 + 12$	$62 + 3$
$70 + 5$	$60 + 5$	$70 + 2$	$70 + 0$	$60 + 2$
soixante-cinq	soixante-douze	soixante-dix	soixante-deux	soixante-quinze

lundi mardi mercredi jeudi vendredi samedi dimanche

1 Colorie les nombres identiques de la même couleur :



gris 64

soixante-quatorze

$60 + 8$

$60 + 14$

jaune 78

soixante-dix-huit

$70 + 8$

$60 + 11$

vert 71

soixante-quatre

$70 + 1$

$67 + 1$

bleu 74

soixante-et-onze

$60 + 4$

$60 + 18$

rouge 68

soixante-huit

$70 + 4$

$62 + 2$

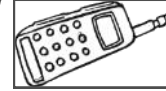
2 Colorie ce dont tu as besoin pour acheter chaque objet.




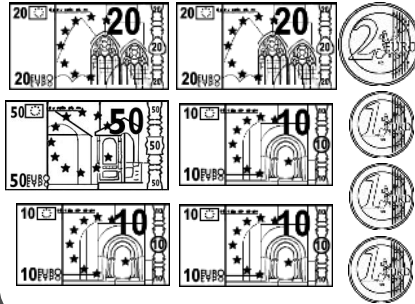

63 €



70 €



78 €



3 Écris 2 nombres différents avec les étiquettes, en respectant le modèle.



46

$40 + 6$

quarante-six

7

6

4