



Énigmes

lundi mardi mercredi jeudi vendredi samedi dimanche






/ /



Retrouve le nichoir de Jordi.

Son toit n'est pas bleu. Il a 3 couleurs. Sa porte n'est pas ronde. Il n'a pas de rouge.



Énigmes fiche 9 A CP

l'opâtme.



Énigmes





lundi mardi mercredi jeudi vendredi samedi dimanche



/ /



Aide Hypolite à retrouver le prix de chaque objet.



$$\text{Ring stack} + \text{Ring stack} + \text{Ring stack} = 9 \text{ €}$$

$$\text{Ring stack} + \text{Cube} + \text{Ring stack} = 10 \text{ €}$$

$$\text{Ring stack} + \text{Cube} = 5 \text{ €}$$

Énigmes fiche 9 B CP

l'opâtme.




Énigmes

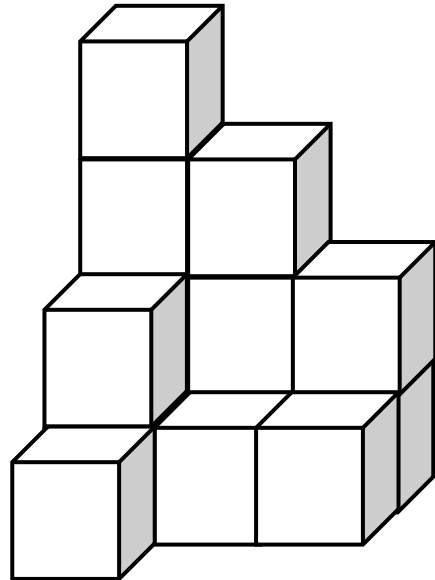
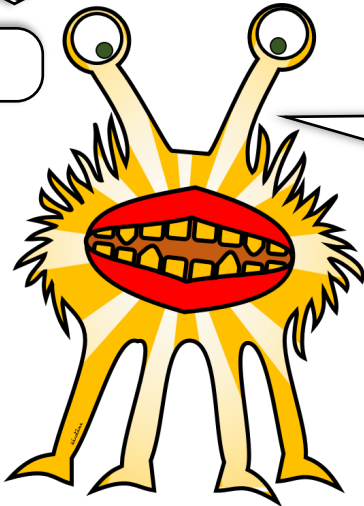
lundi mardi mercredi jeudi vendredi samedi dimanche



/ /



Frida a fait une figure avec ses cubes.
Combien de cubes a-t-elle utilisés ?



Énigmes fiche 10 A CP

l'potâme.

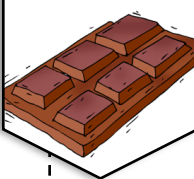


Énigmes



lundi mardi mercredi jeudi vendredi samedi dimanche



/ /



Jordi a croqué la tablette de chocolat. Combien y avait-il
de carrés dans cette tablette ?



Énigmes fiche 10 B CP

l'potâme.



Énigmes

lundi mardi mercredi jeudi vendredi samedi dimanche

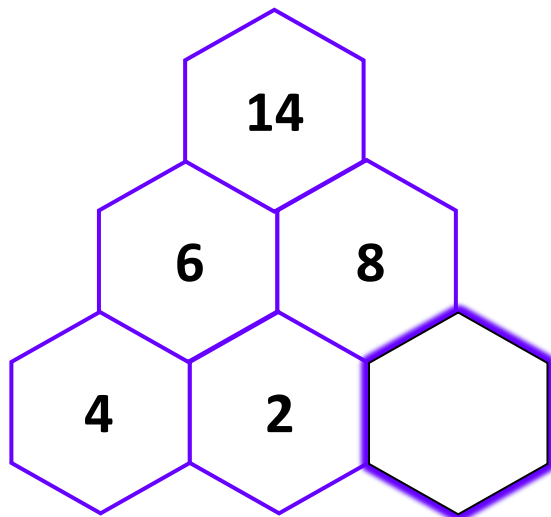



/

/



Gavroche n'arrive pas à trouver le nombre manquant de sa ruche. Aide-le à trouver la règle et écris le nombre.



Énigmes fiche 11 A CP

l'potâme.



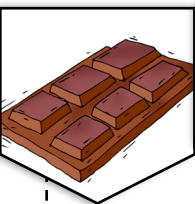
Énigmes

lundi mardi mercredi jeudi vendredi samedi dimanche





/

/



Aide Elfie à colorier les 2 dernières pièces en respectant la règle.



Énigmes fiche 11 B CP

l'potâme.



Énigmes

lundi mardi mercredi jeudi vendredi samedi dimanche






/

/



Kity n'arrive pas à remplir la dernière carte. Aide Kity à trouver la règle, et complète la carte.



Énigmes fiche 12 A CP

l'potâme.



Énigmes

lundi mardi mercredi jeudi vendredi samedi dimanche



/

/



Aide Lucien à retrouver sa maison et colorie-la. Sa maison à 5 fenêtres. Sa cheminée est à gauche mais sa porte est à droite.



Énigmes fiche 12 B CP

l'potâme.