




# Énigmes

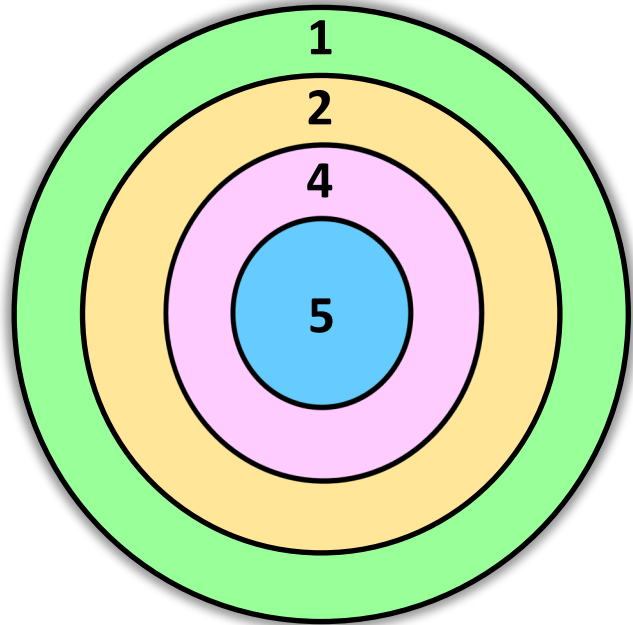

lundi mardi mercredi jeudi vendredi samedi dimanche



/ /



Aldo a lancé 4 fléchettes et a obtenu 16 points.  
Dessine les fléchettes à la bonne place dans la cible.



Énigmes fiche 1 A CP

l'potâme.



# Énigmes

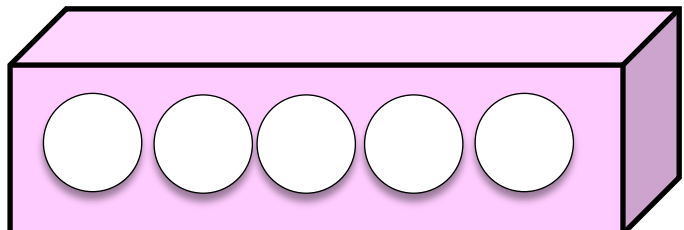
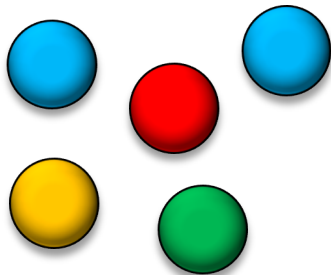

lundi mardi mercredi jeudi vendredi samedi dimanche



/ /



Aide Bazil à ranger ses 5 balles :  
Il y a deux balles entre les 2 balles bleues.  
Il y a une balle rouge à gauche de la verte.  
La balle jaune est placée au bout à droite.



Énigmes fiche 1 B CP

l'potâme.




# Énigmes

lundi mardi mercredi jeudi vendredi samedi dimanche

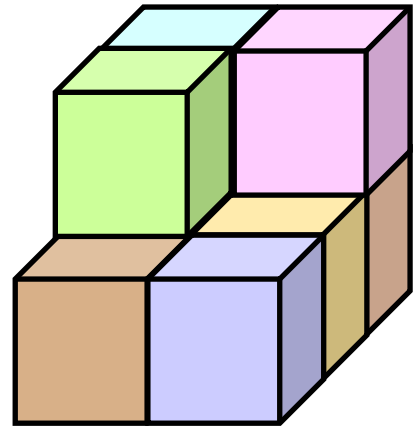
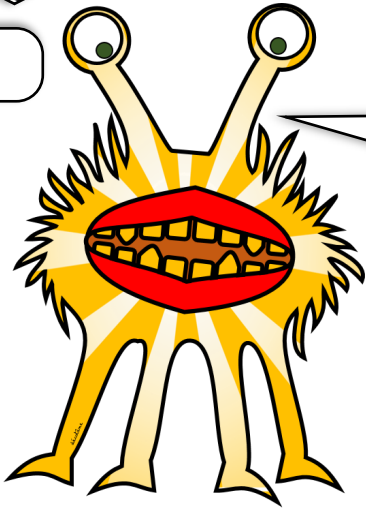


/

/



Frida a fait une figure avec ses cubes.  
Combien de cubes a-t-elle utilisés ?



Énigmes fiche 2 A CP

l'potâme.



# Énigmes

lundi mardi mercredi jeudi vendredi samedi dimanche




/

/



Elfie veut ranger ses balles dans une boite. Colorie  
toutes les façons de les ranger.



Énigmes fiche 2 B CP

l'potâme.

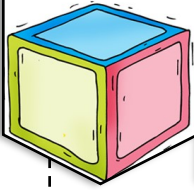


# Énigmes

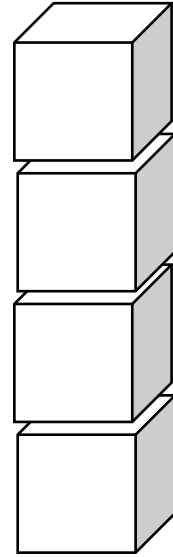


lundi mardi mercredi jeudi vendredi samedi dimanche



/ /



Dalila a rangé ses cubes. Le cube rouge est tout en bas. Le cube jaune est entre le bleu et le vert. Le cube vert n'est pas sous le jaune. Colorie les cubes.



Énigmes fiche 3 A CP

l'potâme.



# Énigmes

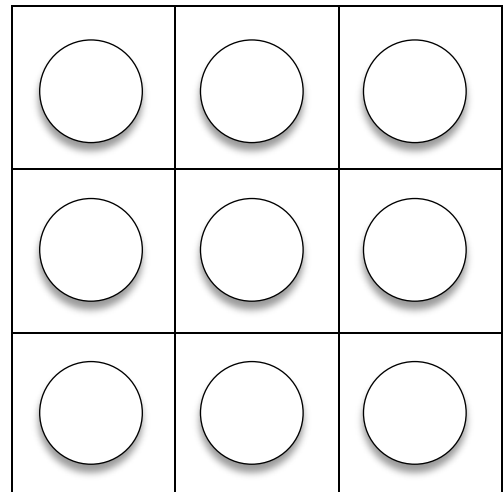

lundi mardi mercredi jeudi vendredi samedi dimanche



/ /



Cyrano a rangé ses balles dans la boîte. Elle a mis dans chaque colonne et chaque ligne 3 balles de couleurs différentes. Colorie les balles.



Énigmes fiche 3 B CP

l'potâme.



# Énigmes

lundi

mardi

mercredi

jeudi

vendredi

samedi

dimanche


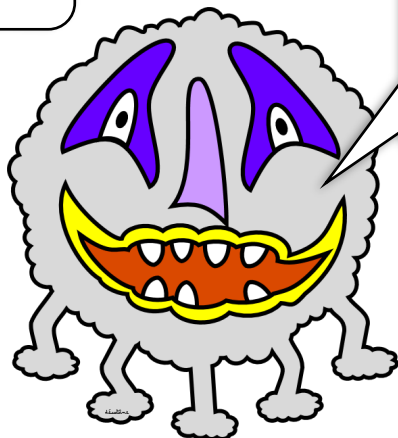


/

/



J'ai photographié, ce matin, 7 têtes et 20 pattes.  
Combien de fois ai-je photographié Gavroche  
et Hypolite.



Énigmes fiche 4 A CP

l'potâme.



# Énigmes

lundi

mardi

mercredi

jeudi

vendredi

samedi

dimanche





/

/



Dans la boîte de Irène il y a 15 balles, des rouges et des bleues. Il y a 2 fois plus de balles rouges (le double) que de bleues. Colorie les balles.



Énigmes fiche 4 B CP

l'potâme.



# Énigmes

lundi

mardi

mercredi

jeudi

vendredi

samedi

dimanche

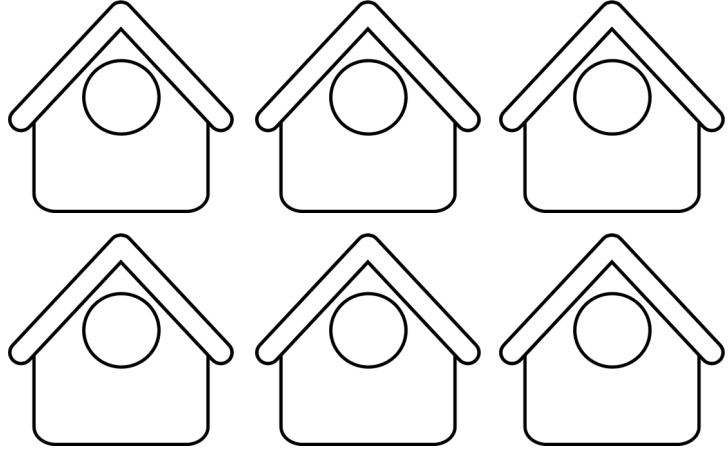



/

/



Bazil veut construire le plus possible de nichoirs différents avec 3 couleurs. Colorie les nichoirs de Bazil.



Énigmes fiche 5 A CP

l'potâme.



# Énigmes

lundi

mardi

mercredi

jeudi

vendredi


samedi

dimanche

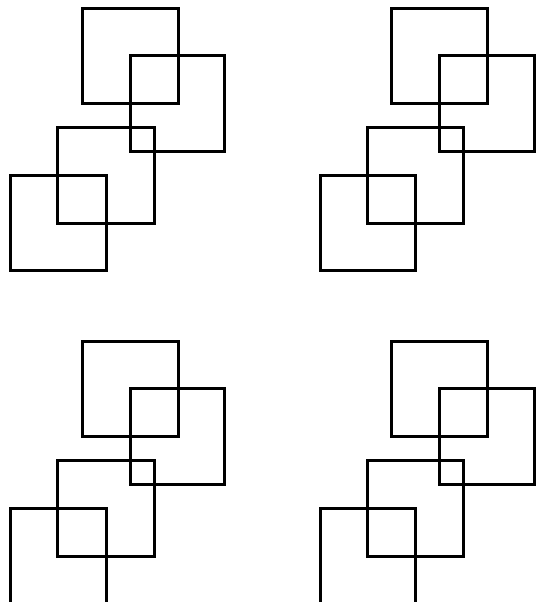





/

/



Combien de carrés Cyrano a-t-il dessiné sur son ardoise ? Pour t'aider utilise les petits dessins.



Énigmes fiche 5 B CP

l'potâme.