

Cycle 2 - Quelques défis – thème : les dés

Défi 1 :

Range les dés dans l'ordre croissant de leur valeur (de la plus petite à la plus grande).

Quels sont les nombres manquants ?

Parmi ces 4 dés, si on en rassemble deux, on obtient le même nombre de points que sur un troisième ; de quels dés s'agit-il ?



Défi 2 :

Associe 3 dés (1 de chaque couleur) pour faire 10.

Combien de dés noirs, verts et bleus restera-t-il ?



Défi 3 :



Qui a le plus de points entre les noirs et les roses ?

Entre les roses et les jaunes ?




Défi 4 :

Dans ce jeu, chacun lance ses 4 dés. Les dés qui arrivent sur la feuille blanche valent 10 fois plus de points. (Ce sont les dizaines). Quel joueur a gagné ? (les dés roses ou les dés verts)



Défi 5 :

Dans le même jeu qu'au défi 4, on ne voit pas tous les dés... Le joueur qui lance les dés verts a gagné à chaque fois. Quel dé est caché par le chat ? (il peut y avoir plusieurs solutions!)



Défi 6 :

Cette fois-ci, pour compter les points de chaque joueur, il faut multiplier les valeurs. Si un joueur obtient un « 4 » et un « 3 », il aura 12 points ($4 \times 3 = 12$).

Parmi tous les joueurs, lequel a gagné (chacun a lancé ses deux dés de la même couleur) ?
Lesquels sont ex-aequo ?

