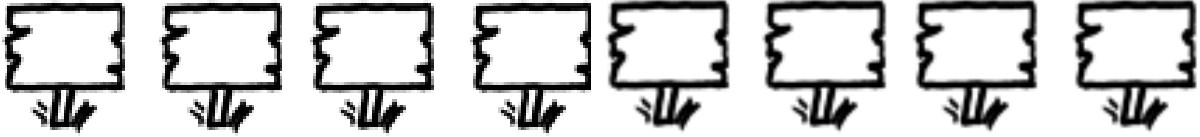


Prénom : _____

Date: _____

CALCULS : la table de 2



1 Colorie et calcule :


$2 \times 5 = _ _$

$2 \times 7 = _ _$

$2 \times 9 = _ _$

$2 \times 3 = _ _$

$2 \times 6 = _ _$



2 Colorie de la même couleur les calculs et leur résultat :

18

6

10

2×3

2×4

4

2×5

12

2×7

2

16

8

2×6

2×1

2×9

14

2×2

2×8

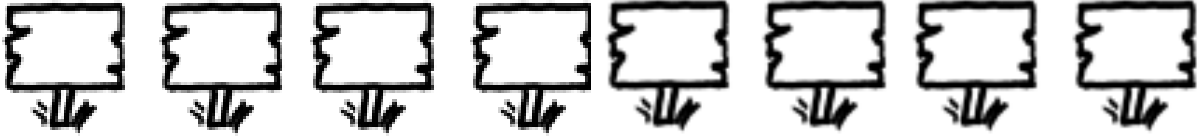
Problème :

Arthur et Lola ont acheté 6 glaces à 2€ chacune.
Combien ont-ils payé?

dessin ou calcul :

phrase réponse :

CALCULS : la table de 5




1 Ecris la multiplication correspondante et calcule:



$$_ \times _ = _$$



$$_ \times _ = _$$



$$_ \times _ = _$$



$$_ \times _ = _$$

2 Calcule :

$$5 \times 5 = _$$

$$5 \times 1 = _$$

$$5 \times 3 = _$$

$$5 \times 4 = _$$

$$5 \times 0 = _$$

$$5 \times 7 = _$$

$$5 \times 8 = _$$

$$5 \times 9 = _$$

$$5 \times 10 = _$$

$$5 \times 6 = _$$

$$5 \times 2 = _$$

$$5 \times 20 = _$$

Problème :

Un livre sur les dinosaures coûte 7€.

Lucas, veut en acheter 5. Combien va-t-il payer ?

dessin ou calcul :

phrase réponse :
