

1 Nombres et quantités : de 0 à 99

Complète avec <, > ou =:

3 15

92 9d 3u

91 9d

94 9d 4u

69 7d 9u

94 4d 9u

90 9d

2 Ecris les nombres dans l'ordre croissant, du plus petit au plus grand:

81 - 94 - 73 - 89 - 97 - 67

.....

.....

.....

.....


.....

.....

3 Ecris les nombres en lettres:

99	
89	
76	
54	
77	
91	

4 Complète la bande numérique:



1 Nombres et quantités : de 0 à 99

Complète avec <, > ou =:

3 15

92 90+2

96 90+2




98 50+8

79 90+7

96 50+20+6

98 50 + 40 + 8

2 Compte et complète:



3 Ecris les nombres du plus grand au plus petit:

76 - 68 - 59 - 95 - 90 - 80

.....

.....

.....

.....

.....

3 Complète:

