

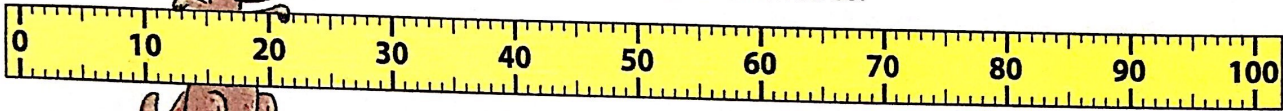
Prénom : \_\_\_\_\_

Date: \_\_\_\_\_

## Mesure : Unité de longueur

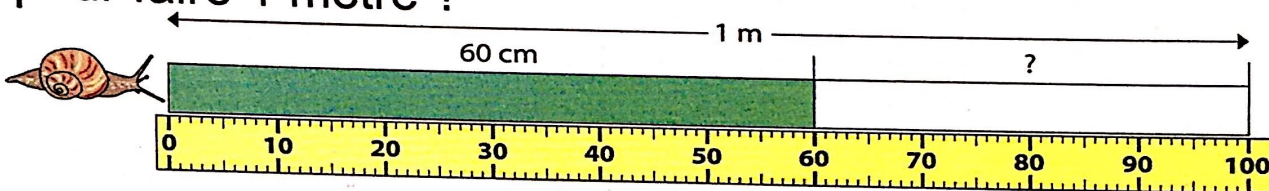


La règle de Litchi mesure 1 mètre.  
Elle est divisée en 100 centimètres.




1 mètre = 100 centimètres  
1 m = 100 cm

**1** Quelle distance chaque escargot doit-il encore parcourir pour faire 1 mètre ?

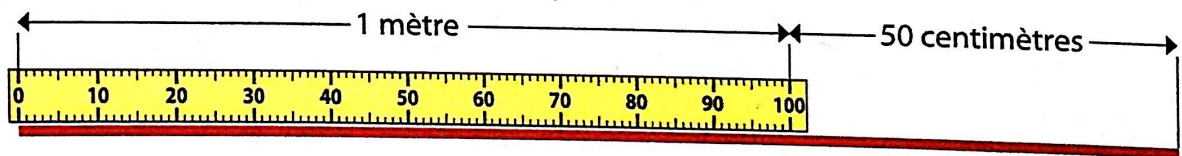


L'escargot doit encore parcourir ..... cm.



L'escargot.....

**2** Calcule le nombre total de centimètres que le scarabée a parcourus :



1 m et 50 cm → ..... cm et 50 cm → ..... + 50 = ..... → ..... cm

Le scarabée a parcouru.....

**Calcule les mesures en centimètres.**

1 m et 35 cm → ..... cm et ..... cm → ..... + ..... = ..... → ..... cm

1 m et 63 cm → ..... cm et ..... cm → ..... + ..... = ..... → ..... cm