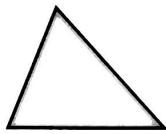

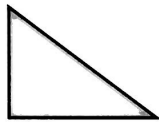




1 Complète les descriptions de chaque figure.



Il a ..... côtés  
et ..... sommets.  
Cette figure est un .....



Il a ..... côtés  
et ..... sommets.  
Il a ..... angle droit.  
Cette figure est un .....

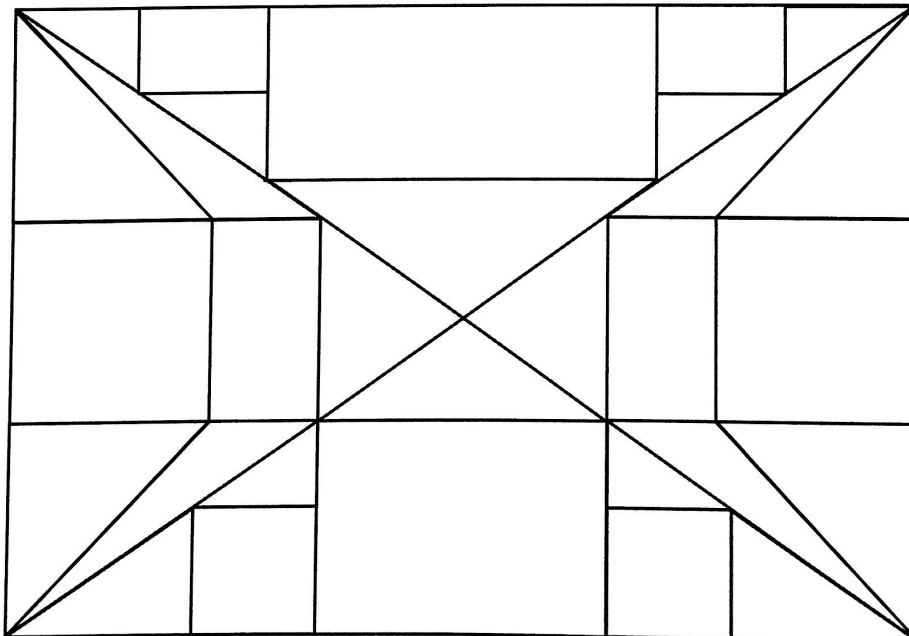


Il a ..... côtés et ..... sommets.  
Il a 4 .....  
Ses côtés ont tous la même .....  
Cette figure est un .....



Il a ..... côtés et ..... sommets.  
Il a 4 .....  
Ses ..... opposés ont la même longueur.  
Cette figure est un .....

2 Colorie les polygones selon le code couleur et écris leur nombre !



- (jaune) triangle rectangle
- (vert) triangle quelconque
- (rouge) carré
- (bleu) rectangle



Il y a ..... triangles rectangles, ..... triangles quelconques, ..... carrés et ..... rectangles.