

Prénom : _____

Date: _____

Nombres et quantités : de 0 à 99

3



15

1 Complète avec $<$, $>$ ou $=$:

92

.....

$90+2$

96

.....

$90+2$

98

.....

$50+8$

79

.....

$90+7$

96

.....

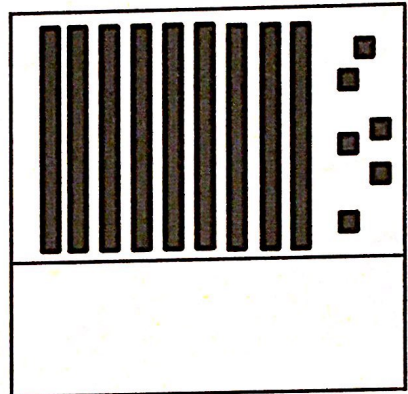
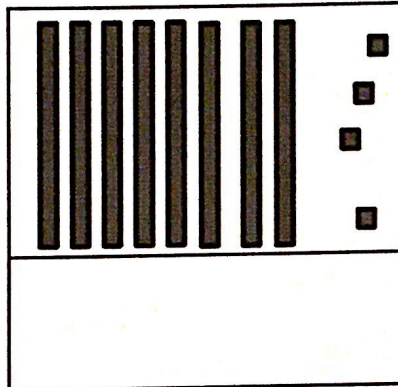
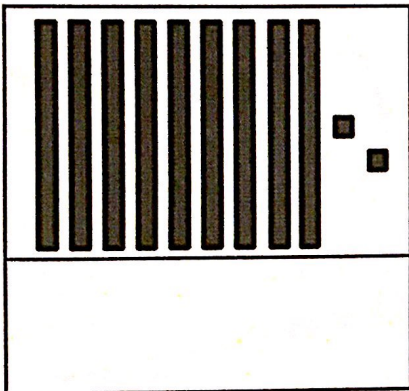
$50+20+6$

98

.....

$50 + 40 + 8$


2 Compte et complète :



3 Ecris les nombres du plus grand au plus petit:

76 - 68 - 59 - 95 - 90 - 80

3 Complète :



Prénom : _____

Date: _____

Nombres et quantités : de 0 à 99

3



15

1 Complète avec $<$, $>$ ou $=$:

92 9d 3u

91 9d

94 9d 4u

69 7d 9u

94 4d 9u

90 9d

2 Ecris les nombres dans l'ordre croissant, du plus petit au plus grand:

81 - 94 - 73 - 89 - 97 - 67

3 Ecris les nombres en lettres:

99	
89	
76	
54	
77	
91	

4 Complète la bande numérique:

