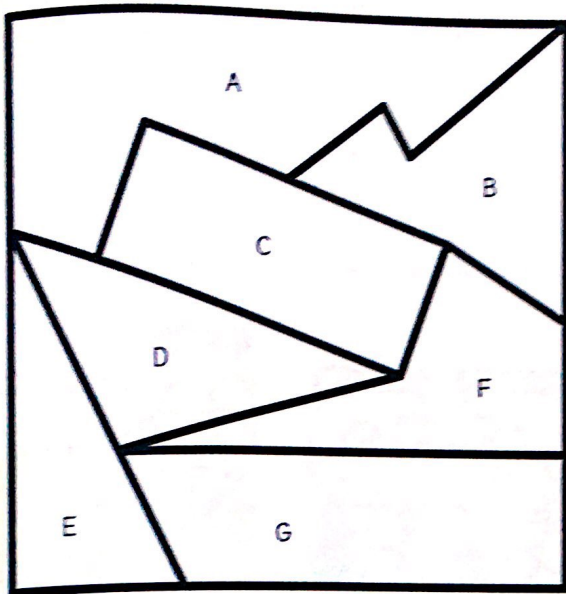



Écris la lettre de la figure choisie par chaque enfant.

4



C'est un triangle qui a un angle droit:


C'est un quadrilatère qui a exactement 2 angles droits:



C'est un polygone qui a 5 côtés:



C'est un quadrilatère qui a 4 angles droits:



Effectue les multiplications.

5

$$\begin{array}{r} 83 \\ \times 5 \\ \hline \end{array}$$

...

$$\begin{array}{r} 738 \\ \times 6 \\ \hline \end{array}$$

.....

$$\begin{array}{r} 69 \\ \times 35 \\ \hline \end{array}$$

.....

$$+ \dots$$

.....

$$\begin{array}{r} 208 \\ \times 24 \\ \hline \end{array}$$

.....

$$+ \dots$$

.....

Résous le problème.

6 Madame Lopez a commandé 8 chaises à 73 euros chacune et 3 fauteuils à 179 euros chacun. Quel est le montant total de sa commande?



Résous le problème.

7 Un TGV est composé de 13 voitures de 64 places chacune. 768 voyageurs ont déjà réservé leur place dans ce train. Combien de places restent disponibles?

