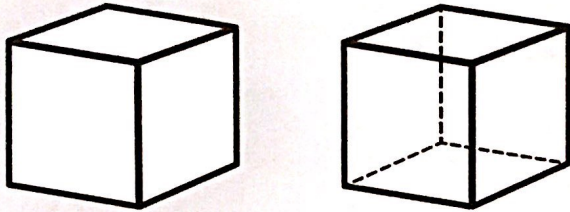



✓ Je sais reconnaître un cube et un pavé droit.

Le cube




Le cube a 6 faces.  
Toutes les faces sont des carrés.

Le pavé droit



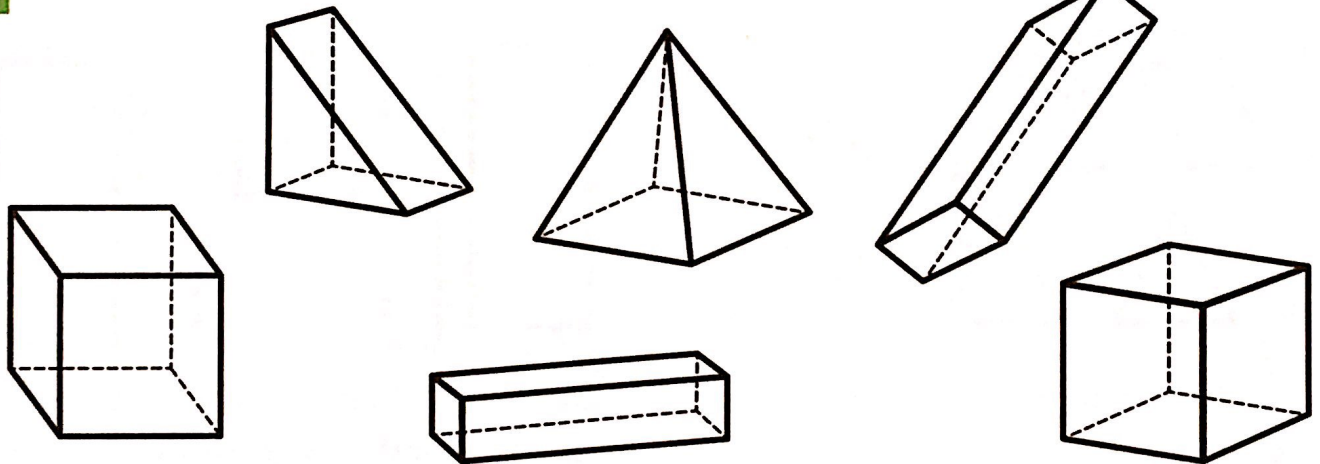
Un pavé a 6 faces.  
Toutes les faces sont des rectangles.

ou

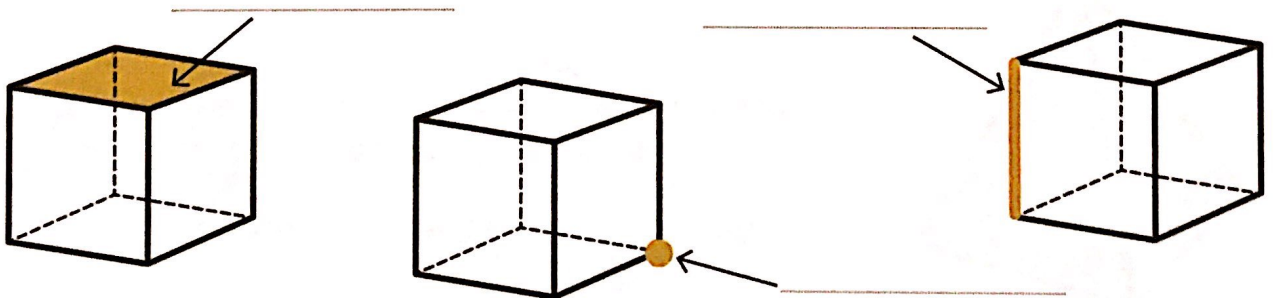


Un pavé a 6 faces. 2 faces sont des carrés  
et 4 faces sont des rectangles.

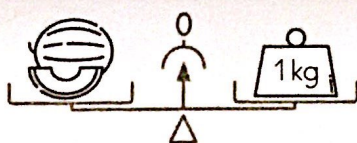
1 Colorie les cubes en jaune et les pavés en bleu.



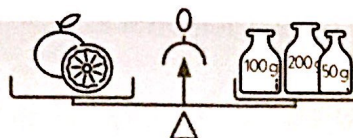
2 Complète avec les mots: une arête, une face, un sommet.



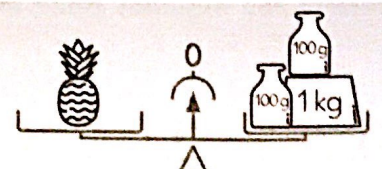
Écris la masse de chaque fruit.



Le melon pèse .....kg



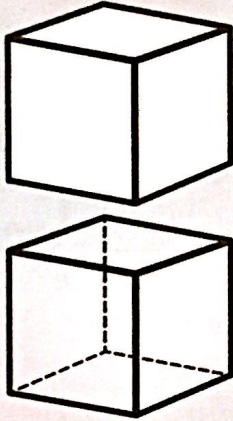
Le pamplemousse  
pèse .....g



L'ananas pèse .....kg .....g

3 Complète les cartes d'identité.

3




Nom .....

Nombre de faces .....

Nombre d'arêtes .....

Nombre de sommets .....

Forme des faces .....



Nom .....

Nombre de faces .....

Nombre d'arêtes .....




Nombre de sommets .....

Forme des faces .....

4 Complète.

4



Sur ce dessin du cube, on ne voit que:

..... faces


..... sommets


..... arêtes.

5 Écris VRAI ou FAUX (V ou F).


5

Un pavé a 2 faces triangulaires. 

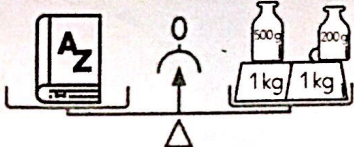
Un cube est un solide qui a toutes ses faces carrées. 

Un pavé peut avoir 6 faces rectangulaires. 

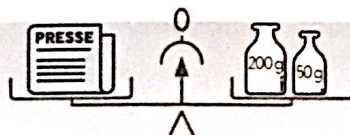
Un pavé a 8 faces. 

Un pavé peut avoir 3 faces carrées et 3 faces rectangulaires. 

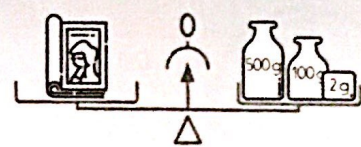
Écris la masse de chaque objet.



Le livre pèse .....kg .....g



Le journal pèse .....g



L'album pèse .....g