


✓ Je sais lire l'heure sur une horloge à aiguilles.



La petite aiguille indique les heures.
La grande aiguille indique les minutes.

1 heure = 60 minutes

Il est 8 heures et demie.

1 Barre les horaires qui ne correspondent pas à l'horloge.



- 6 heures
- 10h30
- 12h00
- 10h00
- 10 heures
- 9h00



- 3 heures
- 2 heures
- 15 heures
- 14h00
- 14 heures
- midi

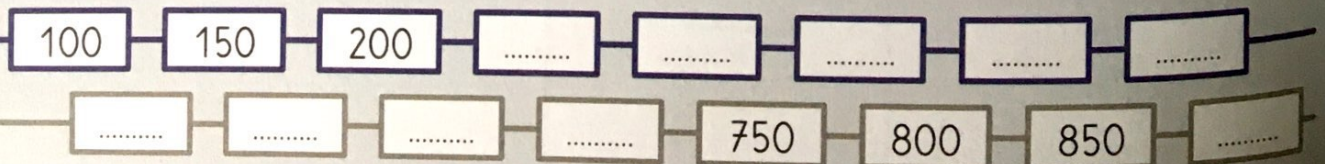


- 19 heures 30
- 7h30
- 18 heures
- 6h30
- 7 heures
- 19h30



- 10h30
- 6 heures
- 18 heures
- 6h00
- 11 heures et demie
- 11h30

Observe et complète.



Complète avec les mots: matin, après-midi, soir.

2



Matin



3

Écris l'heure sur les cadrans.




matin

7:00



après-midi

:



matin

:



soir

:




matin

:




Dessine les aiguilles.


4




9h00



11h30



17h30



19h00


Complète.

5




matin

Il est




après-midi

Il est



après-midi

Il est



matin

Il est

Calcule.

$$\begin{array}{r} 376 \\ + 217 \\ \hline \end{array}$$

$$\begin{array}{r} 283 \\ + 457 \\ \hline \end{array}$$

$$\begin{array}{r} 79 \\ - 37 \\ \hline \end{array}$$

$$\begin{array}{r} 61 \\ - 25 \\ \hline \end{array}$$