

## Atelier de mathématiques CM1

### 1) Réponds aux trois problèmes suivants :

#### **Jolies pierres**

**Zoé** décide de compter ses minéraux. Elle possède trois boîtes de ces jolies pierres.

Dans la première boîte il y a 12 pierres. Dans la deuxième, il y en a le double de la première. Dans la troisième boîte, il y en a le tiers de la première boîte.

**Combien Zoé possède-t-elle de pierres en tout ?**

Calculs : \_\_\_\_\_

\_\_\_\_\_

Réponse : \_\_\_\_\_

#### **Masques**

**Lia** fabrique des masques en tissu pour aider le personnel soignant, avec sa maman.

La première semaine, elle a fait 15 masques.

La semaine suivante, elle en a fait 20.

La troisième semaine, Lia a réalisé le double de masques par rapport à la première semaine.

**Pendant ces trois semaines, combien de masques Lia a-t-elle confectionnés ?**

Calculs : \_\_\_\_\_

\_\_\_\_\_

Réponse : \_\_\_\_\_

**Si elle continue sur ce rythme, combien aura-t-elle fait de masques dans 6 semaines ?**

Calcul : \_\_\_\_\_

Réponse : \_\_\_\_\_

## Rangement

**Alizée** décide de ranger ses photos pendant le confinement.

Elle retrouve un album photos vide, qui peut contenir 100 photos et chaque page peut accueillir 4 photos.

**Combien y a-t-il de pages dans cet album photos ?**

Calculs : \_\_\_\_\_

\_\_\_\_\_

Réponse : \_\_\_\_\_

**\*Question bonus : De combien de pages aura-t-elle besoin pour ranger ses 76 photos ?**


Calculs : \_\_\_\_\_

\_\_\_\_\_


Réponse : \_\_\_\_\_

2) Pose et calcule :


$$6\ 399 : 7 = \dots\dots\dots$$



$$812 \times 25 = \dots\dots\dots$$



$$4\ 085 - 1398 = \dots\dots\dots$$



**q** = ..... **r** = .... < ...