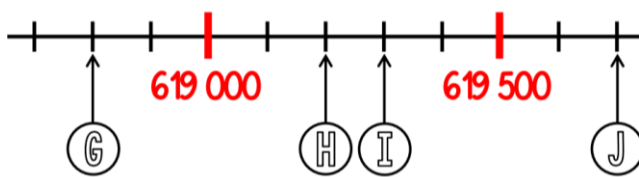
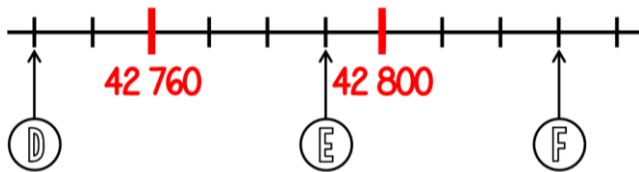
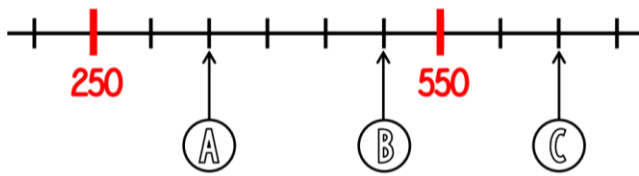


7) Observe ces droites graduées puis indique le nombre correspondant à chaque lettre :



A	B	C	D	E
F	G	H	I	J

8) Place les nombres suivants sur la droite graduée :

34 720	34 742	34 765	34 728	34 713	34 757
--------	--------	--------	--------	--------	--------



9) **BONUS** : ce nombre se lit-il : **876 541 230** ?

Réponse A : huit-cent-soixante-seize-mille-cinq-cent-quarante-et-un-mille-deux-cent-trente

Réponse B : huit-cent-soixante-seize-millions-cinq-cent-quarante-et-un-mille-deux-cent-trente

Réponse C : huit-cent-soixante-seize-cinq-cent-quarante-et-un-mille-deux-cent-trente