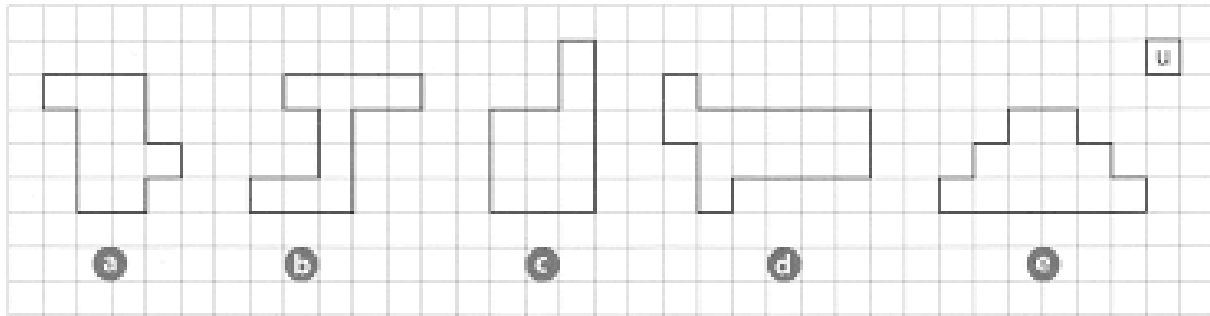


GEOMETRIE MESURES : LES AIRES

Dans tous les exercices une unité d'aire vaut 1 carreau.

Exercice 1 : Calcule l'aire de chacune des figures ci-dessous puis range-les dans l'ordre croissant.



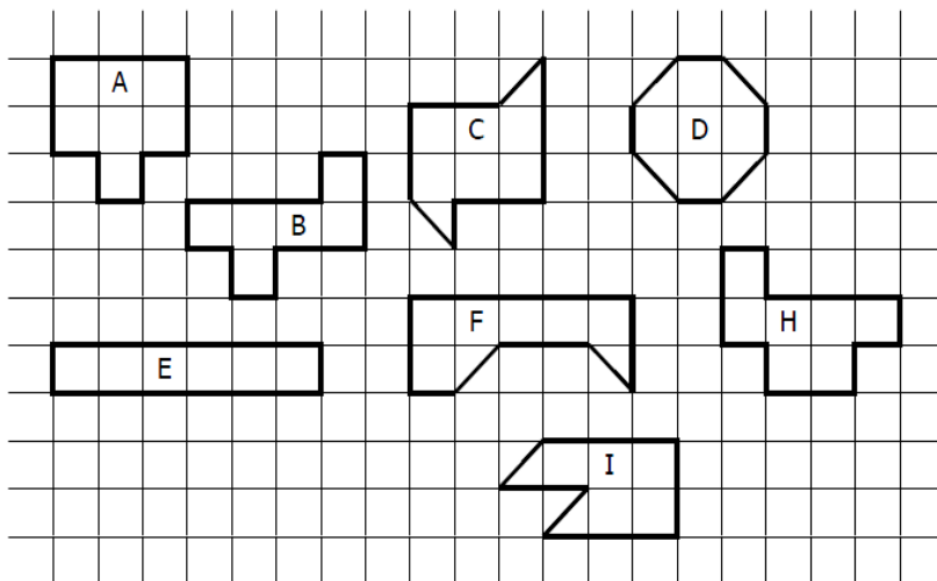
_____ < _____ < _____ < _____ < _____ < _____ < _____

Exercice 2 :

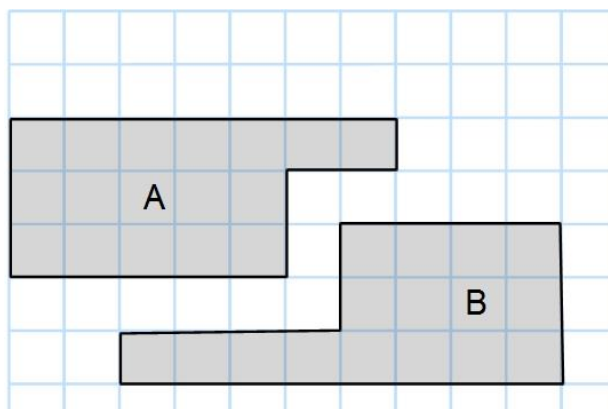
Quelles sont les figures qui ont pour aire :

6 u.a ? : _____

7 u.a ? : _____



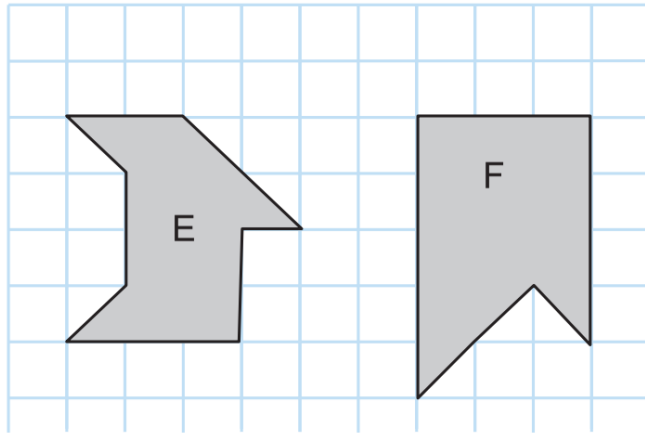
Exercice 3 : En regardant rapidement, parie sur la figure qui a la plus grande aire.



Mon pari : Figure A Figure B

Aire figure A : _____ Aire figure B : _____

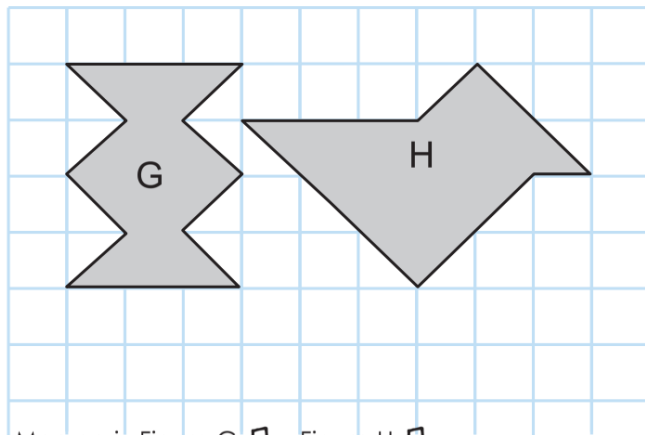
C'est la figure _____ qui a la plus grande aire.



Mon pari : Figure E Figure F

Aire figure E : _____ Aire figure F : _____

C'est la figure _____ qui a la plus grande aire.



Mon pari : Figure G Figure H

Aire figure G : _____ Aire figure H : _____

C'est la figure _____ qui a la plus grande aire.

Exercice 4 : Sur ce quadrillage, réalise trois figures différentes qui ont chacune une aire mesurant 10 u.a .

