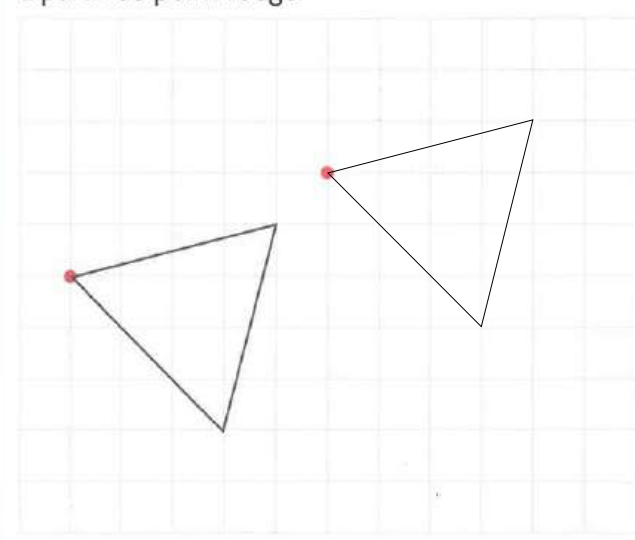


# REVISIONS SUR LA LECTURE DE L'HEURE – proposé le lundi 4 mai


## CORRIGE

### Page 39

**1** Avec ta règle, reproduis le triangle à partir du point rouge.



**2** Entoure les horaires qui correspondent à l'horloge.



12 h

9 heures et demie


midi

9 heures

9 h

### Page 41

**5** Entoure les horaires qui correspondent à l'horloge.



11 h

11 h 30

6 heures


10 h

10 heures et demie

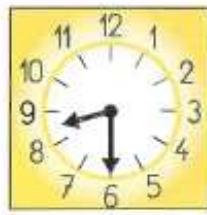
10 h 30

---


**6** Complète.



Il est **3 heures (ou 15 heures)**.




Il est **8 heures 30, 8 heures et demi, 20h30.**




Il est **12 heures 30, 12 heures et demi, 0 heure 30, minuit et demi.**

---


**7** Dessine l'aiguille qui manque sur chaque horloge.



Il est 10 heures.



Il est 4 heures.



Il est 2 heures et demie.