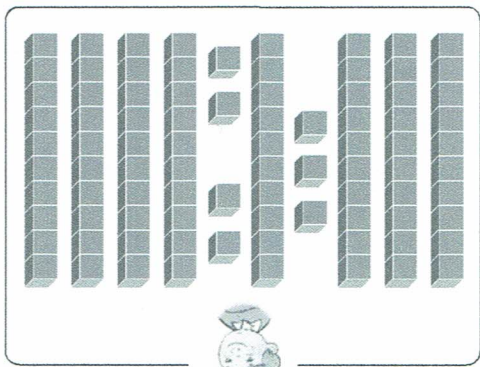





31 Les écritures chiffrées (1)

Exercice 3

[séance 4] Tom, Lila, Éva et Lila doivent prendre le nombre de cubes écrit au milieu. Entoure le personnage quand il a la bonne réponse, sinon barre-le.



87



31 Les écritures chiffrées (1)

Exercice 2

[séance 3] Des enfants ont gagné le nombre de cubes écrit à côté des cartes. Quelles cartes ont-ils obtenues ? Entoure-les.



31 Les écritures chiffrées (1)

Exercice 1

[séance 1] 1, 2, 3 Écris le nombre de cubes gagnés par l'enfant au jeu de cartes.

