






Prénom : date :

1 (Séance 2) Écris dans chaque cas le nombre avec des chiffres et avec des lettres.

	
	3 dizaines et 40 centaines
	2 unités et 45 centaines

15 Les nombres jusqu'à 999 (1)

2 (Séance 3) Complète pour indiquer différentes possibilités.

				Total
2	2549
0	2549
0	0	2549
0	0	0	2549
.....	0	0	2549

15 Les nombres jusqu'à 999 (1)

3 (Séance 4) Écris avec des chiffres les nombres suivants.

Le nombre « 5 dizaines, 3 centaines et 7 milliers » s'écrit

Le nombre « 27 centaines et 8 unités » s'écrit

Le nombre « 10 dizaines et 31 centaines » s'écrit

Le nombre « 4 milliers et 10 centaines » s'écrit

Le nombre « 20 dizaines » s'écrit

15 Les nombres jusqu'à 999 (1)