







Prénom : Date :

LES CONTENANCES CE1- Fiche 2

Je m'entraîne à mon rythme • Les six récipients

☞ Dans chaque récipient dessiné ci-dessous, on peut verser exactement le contenu indiqué dans le cadre.

 4 bouteilles de 1L	 3 bouteilles de 2L	 5 bouteilles de 1L
 A et B	 deux B	 B et C

Complète avec les mesures en litres de **D**, **E** et de **F**.

Contenance de **D** =

Contenance de **E** =

Contenance de **F** =

Trouve la quantité d'eau mise dans l'arrosoir.

Le jardinier met de l'eau dans son arrosoir. Il verse 5 L sur ses fleurs. Après les avoir arrosées, il reste 7 L dans l'arrosoir.


Combien de litres d'eau le jardinier a-t-il mis dans l'arrosoir ?



..... L

..... L

Après
..... L



Le jardinier a mis d'eau dans l'arrosoir.

Objectif : résoudre des problèmes numériques sur des contenances.