







Mercredi 13 Mai

Mathématiques

1) Avec ton stylo vert corrige les opérations d'hier:

$\begin{array}{r} 56123 \text{ } 131 \\ - 3391 \\ \hline 2940 \end{array}$	$\begin{array}{r} 788916 \\ - 5489 \\ \hline 2407 \end{array}$	$\begin{array}{r} 56167132 \\ - 3961 \\ \hline 2771 \end{array}$	$\begin{array}{r} 451020 \\ - 4220 \\ \hline 0800 \end{array}$
--	--	--	--

2) Calcul

$\dots \times \dots = \dots$ 	$\dots \times \dots = \dots$ 	$\dots \times \dots = \dots$ 
$\dots \times \dots = \dots$ 	$\dots \times \dots = \dots$ 	$\dots \times \dots = \dots$ 

### 3) Énigme



**A-** Pour changer le pneu, il faut démonter tous les boulons. Combien faut-il en enlever pour changer les quatre roues ?

**B-** Il faut 12 minutes pour changer chaque roue. Combien de temps faudra-t-il pour changer les quatre roues ?

### 4) Calcul réfléchi :

Souviens toi du double de : *exemple : 50 le double c'est 100.*

Le double de 25 :

Le double de 75 :

Le double de 150 :

Le double de 200 :

### 5) Géométrie :

Sur ton cahier de brouillon, trace un rectangle qui contient 12 carreaux (il y a 12 carreaux dedans) à toi de trouver combien il faut de carreaux en longueur et en largeur.

### 6) Activité ritualisée

Compte de 10 en 10 à partir de 3000 jusqu'à 3200.

3000- 3010 - etc.