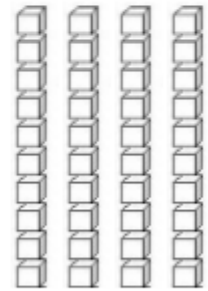
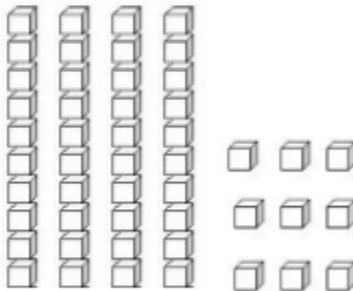
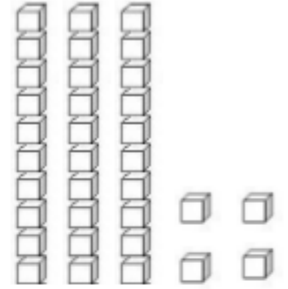
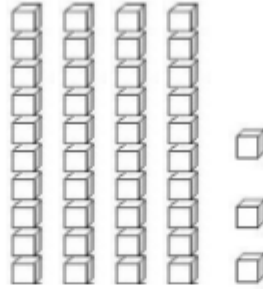
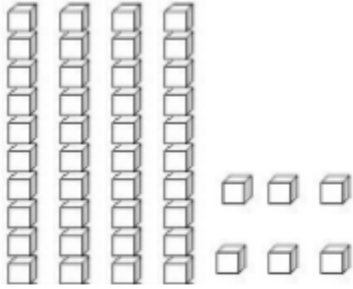


Les nombres de 0 à 49 Groupe 1

1. Ecris le nombre représenté.



2. Complète le tableau.

Nombre précédent	Nombre	Nombre suivant
	42	
	48	
	44	
	40	
	46	

3. Complète avec < ; > ; = .

41..... 14

42 47

45 45

24..... 42

48 18

36 46

13..... 40

47 17

22 44

4. Range du plus petit au plus grand.

40 25 42 41 38 5 46 33 49 47

--	--	--	--	--	--	--	--	--	--	--

5. Complète.

37	39
----	-------	----	-------	-------	-------	-------	-------

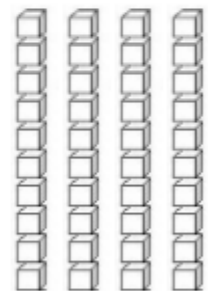
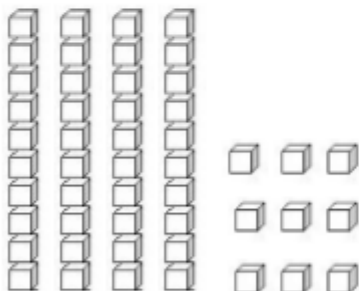
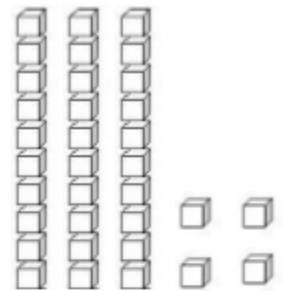
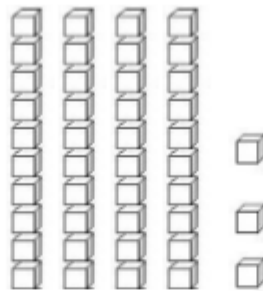
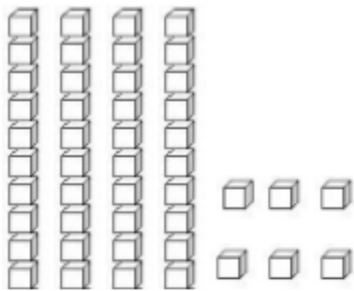
41	43
----	-------	----	-------	-------	-------	-------	-------

32	34	36
----	----	----	-------	-------	-------	-------	-------	-------

48	46	44
----	----	----	-------	-------	-------	-------	-------	-------

Les nombres de 0 à 49 Groupe 2

1. Ecris le nombre représenté.



2. Complète le tableau.

Nombre précédent	Nombre	Nombre suivant
	42	
	48	
	44	

3. Complète avec < ; > ; = .

41..... 14

42 47

24..... 42

48 18

13..... 40

47 17

4. Range du plus petit au plus grand.

40 25 42 41 38 5 46 33 49 47

--	--	--	--	--	--	--	--	--	--	--

5. Complète.

37	39
----	-------	----	-------	-------	-------	-------	-------

41	43
----	-------	----	-------	-------	-------	-------	-------

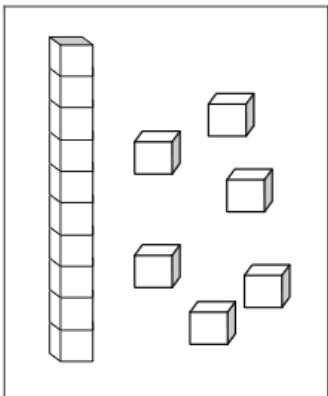
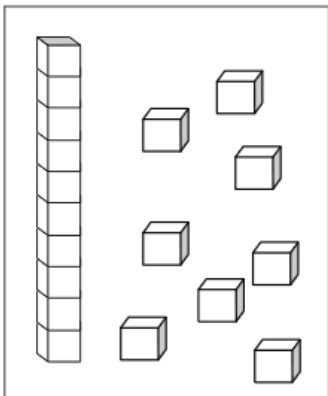
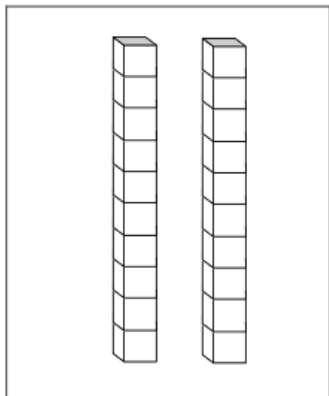
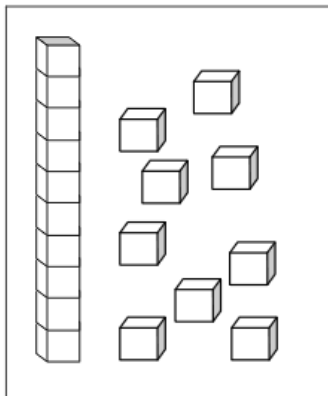
Les nombres de 0 à 49 groupe 3

1. Range les nombres du plus petit au plus grand .

10	7	6	3	11
----	---	---	---	----

--	--	--	--	--

2. Combien il y a de cubes.

3. Complète le tableau :


Nombre précédent	Nombre	Nombre suivant
	42	
	48	
	44	

4. Lis et entoure ou montre à papa ou maman.

entoure le vase où il y a le **plus** de fleurs.



entoure le sac où il y a le **moins** de billes.





entoure le nombre le **plus petit**.



5. Complète la maison.

8	
0 + 8	8 + _
1 + 7	7 + _
2 + 6	6 + _
3 + 5	5 + _
4 + _	

 ——— 
et